



2020 年军队文职考试公共科目试题及参考答案

永岸公考网校

www.chinaexam.org

2020 年军队文职考试公共科目试题及参考答案

一、基础知识—单选题（共 50 题，每题 0.5 分，共 25 分）

1、（单选题）“人的本质”这一概念是人对自身的认识发展到一定阶段形成的，它力图从根本上回答“人是什么”或“什么是人”这一重大题。马克思主义认为，人的本质（ ）。

- A. 永恒不变
- B. 可随主观意志而任意改变
- C. 随着社会关系的变化而变化
- D. 随着个性的改变而改变

2、（单选题）（ ）和信息化是事关国家安全和国家发展、事关广大人民群众工作生活的重大战略问题，是一体之两翼、驱动之双轮。

- A. 生态安全
- B. 军事安全
- C. 科技安全
- D. 网络安全

3、（单选题）在国家垄断资本主义条件下，政府对经济生活进行干预和调节的实质是（ ）。

- A. 维持资本主义经济稳定增长
- B. 消除和防止经济危机爆发
- C. 提高资本主义社会的整体福利水平
- D. 维护垄断资产阶级的整体利益和长远利益

4、（单选题）马克思在研究战争与和平的关系时指出：“战争比和平发达得早；某些经济关系，如雇佣劳动、机器等等，怎样在战争和军队等等中比在资产阶级社会内部发展得早。生产力和交往关系的关系在军队中也特别显著。”这一论述说明了一个重要观点，即（ ）。

- A. 战争是一定社会经济的产物
- B. 战争是流血的政治
- C. 战争是唯一推动社会经济发展的因素
- D. 战争对整个社会经济发展不起作用

5、（单选题）绿水青山就是金山银山。这是重要的（ ）理念，也是推进现代化的重大原则。

- A. 发展
- B. 创新
- C. 改革
- D. 安全

6、(单选题) () 是我们党执政的最大底气，是我们共和国的坚实根基，是我们强党兴国的根本所在。

- A. 人民
- B. 社会主义制度
- C. 人民军队
- D. 党的各级组织

7、(单选题) 在我国社会主义意识形态中，占据统摄地位的是 ()。

- A. 共产主义
- B. 马克思主义
- C. 中国特色社会主义
- D. 社会主义核心价值观

8、(单选题) 先进的社会意识对社会发展起着积极的促进作用，是由于它 ()。

- A. 是社会存在的反映
- B. 具有历史继承性
- C. 反映了社会发展的趋势和要求
- D. 具有相对独立性

9、(单选题) 贯穿于毛泽东思想各个组成部分的立场、观点和方法，是毛泽东思想的活的灵魂，它们有三个基本方面，即实事求是、群众路线、独立自主。其中，毛泽东思想的精髓是 ()。

- A. 实事求是
- B. 群众路线
- C. 独立自主
- D. 统一战线

10、(单选题) 党对军队绝对领导的原则和制度，发端于 ()，奠基于三湾改编，定型于古田会议。

- A. 秋收起义
- B. 广州起义
- C. 百色起义
- D. 南昌起义

11、(单选题) 我们党团结带领人民找到了一条以农村包围城市、武装夺取政权的正确革命道路，进行了28年浴血奋战，完成了新民主主义革命，建立了中华人民共和国，实现了中国从几千年封建专制向人民民主的伟大飞跃。新民主主义革命实质上是 ()。

- A. 工人运动
- B. 封建社会农民起义的延续

- C. 中国共产党领导下的农民革命
- D. 无产阶级社会主义革命

12 、(单选题)唯物辩证法的实质和核心是()。

- A. 对立统一规律
- B. 量变质变规律
- C. 否定之否定规律
- D. 联系和发展

13 、(单选题)习近平在 2019 年 9 月中央党校(国家行政学院)中青年干部培训班开班式强调,共产党人的斗争是有方向、有立场、有原则的,大方向就是:

- A. 维护我国核心利益和重大原则
- B. 维护我国人民根本利益
- C. 实现“两个一百年”奋斗目标、实现中华民族伟大复兴
- D. 坚持中国共产党领导和我国社会主义制度不动摇

14 、(单选题)增进民生福祉是我们党坚持立党为公、执政为民的本质要求。最大的民生工程、民心工程、根基工程是:

- A. 教育
- B. 就业
- C. 收入分配
- D. 社会保障

15 、(单选题)平均利润的形成是:

- A. 部门内部竞争的结果
- B. 部门之间竞争的结果
- C. 资本构成变化的结果
- D. 剩余价值增加的结果

16 、(单选题)生产逐渐发展、工人就业增加、物价逐步上升、企业利润增加是()的特征。

- A. 危机阶段
- B. 萧条阶段
- C. 复苏阶段
- D. 繁荣阶段

17 、(单选题)价值规律作用的表现形式是:

- A. 商品价格经常低于价值

- B. 商品价格总是高于价值
- C. 商品价格往往高于价值
- D. 商品价格围绕价值波动

18 、（单选题）人类社会中最基本的关系是：

- A. 政治关系
- B. 宗教关系
- C. 家庭关系
- D. 生产关系

19 、（单选题）当前我国推进要素市场制度建设，就是要实现（ ）。

- A. 要素市场价格决定、流动自主有序、配置高效公平
- B. 流动自主有序
- C. 配置高效公平
- D. 素市场价格决定

20 、（单选题）现代企业制度的主要形式是（ ）。

- A. 合伙制
- B. 业主制
- C. 公司制
- D. 混合所有制

21 、（单选题）商品的本质属性是（ ）。

- A. 使用价值
- B. 价值
- C. 交换价值
- D. 价格

22 、（单选题）当前我国深化经济体制改革的重点是（ ）。

- A. 完善产权制度和要素市场化配置
- B. 扩大优质增量供给，实现供需动态平衡
- C. 加快培育国际经济合作和竞争新优势
- D. 建立更加有效的区域协调发展新机制

23 、（单选题）党的十二届三中全会通过的《中共中央关于经济体制改革的决定》明确提出（ ）。

- A. 社会主义存在商品生产和商品交换
- B. 社会主义经济是在公有制基础上的有计划商品经济

- C. 建立社会主义市场经济体制是我国经济体制改革的目标
- D. 社会主义是计划经济和市场经济的统一

24 、(单选题) 改革开放以来, 我国利用外资主要有 ()。

- A. 各种海外捐助
- B. 各种国外援助
- C. 外国人存款
- D. 各种贷款、外国直接投资

25 、(单选题) 下列行为中可以引起劳动法律关系产生的是 ()。

- A. 某宾馆雇佣童工
- B. 因岗位原因甲与所在单位协议改变岗位
- C. 乙根据与某公司签订的劳动合同上岗就业
- D. 劳动合同期满前, 丙与某公司协议延期

26 、(单选题) 我国《国防法》规定, 公民和组织因国防建设和军事活动在经济上受到直接损失的, 可以依照国家有关规定取得 ()。

- A. 赔偿
- B. 补偿
- C. 补助
- D. 奖励

27 、(单选题) 下列关于国有经济地位的宪法表述正确的是 ()。

- A. 国有经济是国民经济中的领导力量
- B. 国有经济是国民经济中的主导力量
- C. 国有经济是社会主义市场经济的基本组成部分
- D. 国有经济是我国社会主义经济制度的唯一基础

28 、(单选题) 中华人民共和国各级监察委员会是国家的 ()。

- A. 行政机关
- B. 审判机关
- C. 监察机关
- D. 法律监督机关

29 、(单选题) 我国《宪法》和法律所确立的解决我国民族问题的基本政治制度是 ()。

- A. 民族区域自治
- B. 各民族一律平等

- C. 设立特别行政区
- D. 实行国家统一领导

30 、(单选题) 根据马克思主义法学原理, 下列选项正确的是 ()。

- A. 在任何社会, 法律内容的决定性因素都是利益需要
- B. 法律的本质是社会各阶层意志的体现
- C. 法律是调整人的一切社会行为的规范
- D. 特定国家的法的内容在最终意义上是由特定国家在特定时空下的物质生活条件决定的

31 、(单选题) 我国注册商标的有效期为 (), 自核准注册之日起计算。

- A. 5 年
- B. 10 年
- C. 15 年
- D. 20 年

32 、(单选题) 2020 年 5 月 28 日第十三届全国人民代表大会第三次会议通过了 ()。

- A. 《中华人民共和国国防法》
- B. 《中华人民共和国民法典》
- C. 《中华人民共和国现役军官法》
- D. 《中华人民共和国民法总则》

33 、(单选题) 著作权的内容包括人身权和 ()。

- A. 财产权
- B. 收益权
- C. 署名权
- D. 出版权

34 、(单选题) 下列两则民谣, 说明了我国国防活动基本原则中的 ()。

(一) 松柏满山棵挨棵, 哪有民兵人数多, 人筑长城神难过, 打得鬼子无处躲。

(二) 前村后屋安土炮, 满山遍野地雷网, 老少民兵长翅膀, 飞行出击敌后方。一脚踢后心, 一手打耳光,

配合主力歼敌人, 封锁消息断敌粮。

- A. 全民自卫原则
- B. 积极防御原则
- C. 独立自主原则
- D. 国防建设与经济建设协调发展原则

35 、(单选题) 目前, 我国人口增长已经进入 ()。

- A. 低出生率、低自然增长率的现代模式
- B. 低出生率、低死亡率、低自然增长率的现代模式
- C. 高出生率、低死亡率、高自然增长率的过渡模式
- D. 高出生率、高自然增长率的传统模式

36 、(单选题) 成语“草木皆兵”反映的历史事件是 ()。

- A. 赤壁之战
- B. 官渡之战
- C. 长平之战
- D. 淝水之战

37 、(单选题) 中央集权封建制度对我国封建社会产生的最主要的积极影响是:

- A. 维护国家统一
- B. 发展社会经济
- C. 防御侵略
- D. 加强民族团结

38 、(单选题) 关于我国“坚持推动构建人类命运共同体”，下列表述不正确的是:

- A. 始终坚持和平共处五项原则、走互利共赢的开放道路
- B. 坚持正确义利观，树立共同、综合、合作、可持续的新安全观
- C. 谋求开放创新、包容互惠的发展前景
- D. 始终做世界和平的建设者、全球发展的贡献者、国际秩序的维护者

39 、(单选题) 我国行政区划基本分为 () 级。

- A. 省、自治区、直辖市
- B. 省、自治区、直辖市、特别行政区
- C. 省、县、乡
- D. 省、地、县、乡

40 、(单选题) 2019 年 3 月 30 日上午，“双千兆第一区”开通仪式在 () 举行，并拨通了首个 5G 手机通话，标志着 () 成为全国首个中国引动 5G 试用城市。

- A. 北京朝阳区 北京
- B. 上海虹口区 上海
- C. 深圳龙华区 深圳
- D. 杭州西湖区 杭州

41 、(单选题) () 是决定当代中国命运的关键一招，也是决定我军发展壮大，制胜未来的关一招。

- A. 开放
- B. 创新
- C. 改革
- D. 建设

42 、(单选题) 在战争制胜问题上, () 是决定因素, 无论时代条件如何发展, 战争形态如何演变, 这一条永远不会变。

- A. 武器
- B. 人
- C. 战争性质
- D. 军队组织形态

43 、(单选题) 我国古代的国防是指从公元前 21 世纪夏王朝的建立到 ()。

- A. 1840 年鸦片战争
- B. 第二次鸦片战争
- C. 1900 年八国联军侵华
- D. 辛亥革命

44 、(单选题) 国防的基本类型包括 ()。

- A. 扩张型、侵略型、联盟型和中立型
- B. 扩张型、自卫型、联盟型和中立型
- C. 侵略型、自卫型、结盟型和中立型
- D. 攻击型、防守型、联盟型和中立型

45 、(单选题) 党的生命线和根本工作路线是 ()。

- A. 实事求是
- B. 群众路线
- C. 独立自主
- D. 统一战线

46 、(单选题) 军队是要准备打仗的, 一切工作都必须坚持 () 标准, 向能打仗、打胜仗聚焦。

- A. 对党忠诚
- B. 战斗力
- C. 作风优良
- D. 保障有力

47 、(单选题) 1950 年 10 月, 党中央作出了抗美援朝、保家卫国的战略决策, 毛泽东主席签署命令, 任

命（ ）为中国人民志愿军司令员兼政治委员。

- A. 陈毅
- B. 刘伯承
- C. 彭德怀
- D. 粟裕

48 、（单选题）全面贯彻落实总体国家安全观，要聚焦重点，抓纲带目，把确保（ ）安全作为首要任务，统筹推进各重点领域国家安全工作。

- A. 军事
- B. 人民
- C. 经济
- D. 政治

49 、（单选题）人民军队内部实行的“三大民主”是（ ）。

- A. 政治民主、经济民主、军事民主
- B. 政治民主、管理民主、军事民主
- C. 文化民主、经济民主、军事民主
- D. 文化民主、管理民主、军事民主

50 、（单选题）军队保密工作是军队建设（ ）的工作，是巩固战斗力、完成各项任务的重要保证。

- A. 临时性、基础性
- B. 经常性、基础性
- C. 临时性、保障性
- D. 保障性、基础性

二、基础知识一多选题（共 10 题，每题 1.5 分，共 15 分）

51 、（多选题）面对来势汹汹的新冠肺炎疫情，党中央审时度势、综合研判，及时提出了（ ）总要求。

- A. 坚定信心
- B. 同舟共济
- C. 科学防治
- D. 精准施策
- E. 高度重视

52 、（多选题）新时代，中央贯彻“一国两制”方针坚持两点，一是坚定不移，不会变，不动摇；二是全面准确，确保“一国两制”在香港、澳门的实践不走样、不变形，始终沿着正确方向前进。全面准确理解“一国”和“两制”的关系，必须把握（ ）。

- A. “一国两制”是一个完整的概念
- B. “一国”是实行“两制”的前提和基础，“两制”从属和派生于“一国”，并统一于“一国”之内
- C. “一国”是根，根深才能叶茂；“一国”是本，本固才能枝荣
- D. 国家主体坚持社会主义制度，是香港、澳门实行资本主义制度，保持繁荣稳定的前提和保障；香港、澳门依照基本法实行“港人治港”、“澳人治澳”、高度自治，必须充分尊重国家主体实行的社会主义制度
- E. 把坚持“一国”原则和尊重“两制”差异有机结合起来，做到坚守“一国”之本，实现“两制”和谐相处、相互促进，既要把实行社会主义制度的内地建设好，也要把实行资本主义制度的香港、澳门建设好

53 、（多选题）党的十九届四中全会提出需要坚持和完善的社会主义基本经济制度包括（ ）。

- A. 公有制为主体、多种所有制经济共同发展
- B. 按劳分配为主体、多种分配方式并存
- C. 社会主义市场经济体制
- D. 混合所有制经济发展
- E. 改革开放

54 、（多选题）共建“一带一路”倡议秉持的原则是（ ）。

- A. 共商
- B. 开放
- C. 共建
- D. 共赢
- E. 共享

55 、（多选题）关于党对法治事业的领导，下列说法正确的是（ ）。

- A. 党的领导是社会主义法治最根本的保证
- B. 党对法治事业的领导的理念可以追溯到列宁关于无产阶级专政与社会主义法治的思想
- C. 应当将党所倡导的政治文明充分体现在对法治实践活动的领导之中
- D. 党对法治事业的领导，集中体现在思想领导、政治领导两个方面
- E. 党的领导必须依靠社会主义法治

56 、（多选题）我国《宪法》规定的爱国统一战线的范围包括（ ）。

- A. 社会主义劳动者
- B. 社会主义事业的建设者
- C. 拥护社会主义的爱国者
- D. 拥护祖国统一的爱国者
- E. 我国公民

57 、(多选题) 2001 年 9 月 11 日, 基地组织策划了对美国纽约世界贸易中心和五角大楼的一系列恐怖袭击事件, 造成重大人员伤亡和财产损失。这是一起典型的国际恐怖主义袭击活动。该事件发生后, 不仅美国的盟友对美国表示了同情和支持, 而且非盟友国家也表示支持美国打击恐怖主义。2001 年 10 月 7 日, 以美国为首的联军发起了一场针对基地组织和塔利班的战争, 标志着反恐战争的开始。关于国际恐怖主义, 下列描述正确的有 ()。

- A. 国际恐怖主义崇尚暴力活动, 一般没有政治色彩
- B. 需要世界各国相互合作, 共同应对国际恐怖主义
- C. 打击国际恐怖主义已经成为少数大国推进霸权主义和强权政治的借口
- D. 贫富差距给国际恐怖主义可乘之机
- E. 国际恐怖主义目前仍然是美国面临的最主要威胁

58 、(多选题) 澳门回归祖国 20 年来取得的成就举世瞩目, 习近平指出, 总结澳门“一国两制”成功实践, 可以获得 4 点重要经验, 这些经验包括 ()。

- A. 始终坚定“一国两制”制度自信
- B. 始终准确把握“一国两制”正确方向
- C. 始终强化“一国两制”使命担当
- D. 始终注重夯实“一国两制”中华文化根基
- E. 始终筑牢“一国两制”社会政治基础

59 、(多选题) 党的十九大对国防和军队现代化作出了战略安排, 强调同国家现代化进程相一致, 全面推进 (), 力争到二〇三五年基本实现国防和军队现代化, 到本世纪中叶把人民军队全面建成世界一流军队。

- A. 军事理论现代化
- B. 军队组织形态现代化
- C. 军队力量编成现代化
- D. 军事人员现代化
- E. 武器装备现代化

60 、(多选题) 党对军队绝对领导的制度包括 ()。

- A. 坚持军队最高领导权和指挥权属于党中央、中央军委, 中央军委实行主席负责制
- B. 实行党委制、政治委员制、政治机关制
- C. 实行党委统一的集体领导下的首长分工负责制
- D. 实行支部建在连上
- E. 坚持民主集中制

三、言语理解与表达 (共 15 题, 每题 1 分, 共 15 分)

61 、(单选题) 依次在下列各句横线处填入词语, 恰当的一项是 ()。

①北京卢沟桥两边的石栏杆上雕刻着数以百计的石狮, 这些狮子在风霜雨雪中已守桥七百多个_____。

②不同管理层次、不同岗位上的人员, 不管其工作内容有多大的_____, 均有其工作的目标和重点。我们必须_____目标, 抓住重点, 有所取舍, 集中_____做我们该做的事。

- A. 春秋 差距 制定 物力
- B. 岁月 差距 制定 物力
- C. 岁月 区别 实现 财力
- D. 春秋 差别 明确 精力

62 、(单选题) 下列语句中, 划线词语使用不正确的是 ()。

A. 文物, 承载着一个民族的历史, 也维系着生活在同一个文化圈里人们的情感认同。那些平素里“养在深闺人未识”的宝贝精品, 如今因为一场场“云展览”, 与艺术爱好者们的距离陡然拉近了

B. 从这些器物上不难发现, 无论是车马器、屏风座还是连接扣器都运用了云纹造型, 色彩绚丽, 动感十足, 说明起于北方草原的中山国历经数百年已与中原民族渐趋融合, 呈现出动静结合的风格

C. 疫情防控思政大课“云”开讲, 四位老师带领我们从不同的角度审思这一场新冠肺炎疫情, 很多人心头始终萦绕着“此生无悔入华夏, 来世愿在种花家”的幸福感和自豪感

D. 科学家们表示, 除了海王星和天王星这对“蓝色妖姬”本身充满神秘诱惑之外, 这两颗行星和木星之间罕见的“行星连珠”现象将出现于本世纪 30 年代初

63 、(单选题) 最近, 法国科学研究中心和欧洲南方天文台发布信息说, 天文学家去年利用位于智利的超大望远镜拍摄到另一个“太阳系”行星的照片。这颗系外行星的体积是太阳系最大行星(木星)的 5 倍, 温度是它的 10 倍。这颗系外行星围绕一颗年轻的棕矮星运行。但棕矮星与行星很难区分。天文学家早先说过他们发现了一个距离地球 230 光年的物体围绕棕矮星运行, 亮度仅为后者的 1/100。但他们不能确定这个物体是一颗棕矮星, 还是绕棕矮星运行的系外行星。可今年早些时候的观测报告根据它一年来的运动轨迹证明, 该物体确实是系外行星。这也是迄今为止第一次拍到系外行星的照片。

阅读这则消息, 最符合该消息的导语是 ()。

- A. 欧洲科学家相信他们第一次拍到了另一个“太阳系”行星的照片
- B. 欧洲科学家最近表示, 他们相信自己第一次拍到了另一个“太阳系”行星的照片
- C. 欧洲科学家第一次拍到了另一个“太阳系”行星的照片
- D. 欧洲科学家最近表示第一次拍到了另一个“太阳系”行星的照片

64 、(单选题) 下列句子中没有语病的是 ()。

- A. 夜深人静, 想起今天一连串发生的事情, 我怎么也睡不着
- B. 领导干部的楷模孔繁森真正具备了一个共产主义战士的优秀共产党员的品质

- C. 飞快的 18 次特快列车向北京奔驰
- D. 一列一列的火车满载着生产物资开往祖国的四面八方

65 、（单选题）下列语句中语意明确的是（ ）。

- A. 他背着爸爸和妈妈偷偷地把这笔钱分别存入了两家银行
- B. 这本肖洛霍夫《静静的顿河》将作为今天“朗读者”的嘉宾的礼品赠送给他
- C. 这次考试题虽然不难，但由于他准备得不太充分，差一点儿就没及格
- D. 新学期疫情来势汹汹，区教育研讨视频会上，几个学校的领导提出一定要严把“停课不停学”期间教学质量关

66 、（单选题）在作文运思时，最重要而且最艰苦的工作不在于搜寻材料，而在于有了材料之后，将它们加以选择与安排。就生糙的材料说，世间可想到可说出的话，前人在大体上都已经想过说过；然而后来人却不能因此就不去想不去说，因为每个人有他的特殊的生活情境与经验。所以他所想所说尽管在表面上是老生常谈，而实际上却可以是一种新鲜的作品，如果选择与安排给了它一个新的形式和新的生命的话。

对这段文字主要意思的提炼，下面选项中最准确的是（ ）。

- A. 材料的选择与安排，能显出创作艺术的锤炼
- B. 尽管材料大致相同，但不同作者有不同的选择与安排
- C. 材料的选择与安排是写作中最重要、最艰苦的工作
- D. 作者特殊的生活情境与经验，造就了新鲜的作品

67 、（单选题）下列语句中，关联词使用正确的是（ ）。

- A. 在阅读过程中，我们可以发现，即使每个作家都有自己的风格，但同时代的作品总还会有某些共同的特点
- B. 为学生减负，不只是学校单方面的事，而是整个社会的事情，因此必须动员社会各方面的力量参与
- C. 人类只有清醒地认识自己，才能合理地调整自己的行为，免于被大自然惩罚，与自然和谐相处
- D. 我亲自感受过中国近代的屈辱史，从而，我对近百年那些为中国寻求解放之路、前仆后继地探索和牺牲的先驱者，一直怀有崇高的敬意

68 、（单选题）下列成语中划横线的字解释不完全正确的是（ ）。

- A. 言之不预（预料） 前倨（傲慢）后恭
- B. 痼（彻底）改前非 坚忍不拔（移动、改变）
- C. 挂（列举）一漏万贻（留给）笑大方
- D. 名（名誉）不虚传方（正在）兴未艾

69 、（单选题）下列这首诗共有（ ）对仗。

早春南征寄洛中诸友

欧阳修

楚色穷千里，行人何苦愁。

芳林逢旅雁，候馆噪山鸦。

春入河边草，花开水上槎。

东风一樽酒，新岁独思家。

A. 1 联

B. 2 联

C. 3 联

D. 4 联

70 、(单选题) 2019 年 8 月 24 日，在北京召开的世界机器人大会现场，全球首款基于视觉识别做到侧面跟随、智能避障的 OVIS 智能行李箱发布。据悉，这款实质为“硬核”智能机器人的消费电子产品在上市前已获“Best of Product 2019 CES”等 16 项大奖，以及 2019 美国爱迪生奖——银奖等殊荣：其基于视觉感知和导航的侧跟技术已申请 29 项美国发明专利。据灵动科技（ForwardX）创始人兼 CEO 齐欧介绍，这款 20 英寸的登机箱“相当于一套搭载了无人驾驶技术的低速无人车”，通过融合多传感器的人工智能硬件，实现每分钟传输 30GB 的视频信息流量及 360 度全方位视觉感知能力，“能够视觉识别并预测用户的行走轨迹，实时调整自身的速度、导航行驶路线，以实现在侧面跟随主人行走、智能躲避路线中的所有障碍”，并且符合国际安检标准。

根据选文内容，下列最符合本文陈述的推断是（ ）。

- A. “侧跟”行李箱发布的目的是实现智能避障
- B. “侧跟”行李箱将会受到民众的热烈欢迎
- C. “侧跟”行李箱将会成为全球首款智能行李箱
- D. “侧跟”行李箱的充电电池使用期限会较长

71 、(单选题) 给下列句子排序，最恰当的是（ ）。

- ①活着就应该对生命保持一种敬畏和尊重。只要我们还拥有生命，就得对生命负责，让生命焕发出光彩。
- ②“水清鱼读月，山静鸟听风”，能领悟山月对话的静谧，活着就是一种幸福体验。
- ③我们为什么活着？
- ④观看潮涌大江的壮阔，品味人间真情的美好，活着就是一种快乐享受。
- ⑤同时，活着就是对生命过程的幸福体验和快乐享受。

- A. ③①④②⑤
- B. ②⑤①④③
- C. ④①⑤③②
- D. ③①⑤②④

72 、(单选题)对下列这首词的赏析,不正确的是()。

品令·茶词

黄庭坚

凤舞团团饼,恨分破、教孤令。金渠体净,只轮慢碾,玉尘光莹。汤响松风,早减了、二分酒病。味浓香永。醉乡路、成佳境。恰如灯下,故人万里,归来对影。口不能言,心下快活自省。

【注】孤令:孤零。金渠:茶碾,金属所制。

- A. 茶饼上印着团团起舞的凤凰,将茶饼分开,凤凰好像各自分飞,让人遗憾
- B. 词人在松林喝茶,听着茶水的沸腾声和掠过松林的风声,心中感到十分惬意
- C. 词人将茶饼用洁净的金渠细心碾成琼粉玉屑,但见茶末成色纯净,清亮晶莹
- D. 这首词上阕主要写品茶过程,下阕着重写品茶的感受,语言清丽,情感真挚

73 、(单选题)将下列编号的语句依次填入语段划横线处,语意连贯的是()。

汉文化所以不同于其他民族的文化,_____,_____,_____。_____,孔子在塑造中国民族性格和文化——心理结构上的历史地位,已是一种难以否定的客观事实。

- ①不管是好是坏,是批判还是继承
- ②中国人所以不同于外国人
- ③中华艺术所以不同于其他艺术
- ④其思想来由仍应追溯到先秦孔学

- A. ④①②③
- B. ①②④③
- C. ②①④③
- D. ②③④①

74 、(单选题)下文中划线部分“而正是在这两点上”中的“这”指代的是()。

经济学家保罗·罗默指出,知识的生产、应用和扩散的效率与知识的积累及人力资本正相关。而正是在这两点上,发展中国家同发达国家存在着巨大差距,这种差距虽然使发展中国家在知识的选择和应用方面可以有较大的回旋余地,但同时使得他们与发达国家在国际分工中因位势的不同形成垂直分工的关系,因而处于不利地位,甚至随着新的技术壁垒的形成而形成新的“中心—依附”关系,加大贫富差距。

- A. 知识的生产、应用
- B. 知识的积累
- C. 知识的积累和人力资本
- D. 知识的应用及扩散效率

75 、(单选题)下列各句标点符号使用正确的是()。

A. 她认真地看过这些信后，郑重地转给了有关部门，不知道有关部门收到这些信后作何感想？能不能像影片中那位女法官那样秉公断案，尽快解决问题？

B. 以前可能因为年龄小，不知道珍惜时间，现在我才体会到“一寸光阴一寸金，寸金难买寸光阴。”这句话的真正含义。

C. 每当疼痛发作，他就采用自己的“压迫止痛法”——用茶壶盖、烟嘴、玻璃球、牙刷把……顶住疼痛的部位。

D. “真不是和你说着玩儿。”洪民一本正经地说，“如果你能出山，咱们一起想办法，这事准能完成”。

四、数量关系（共 10 题，每题 1.5 分，共 15 分）

76、（单选题）请选择最合理的一项来填充所给数列的空缺项，使之符合原数列的排列规律：10，8，6，4，（ ），2，-2，1，-6

A. 2

B. 3

C. 0

D. -1

77、（单选题）请选择最合理的一项填充所给数列的空缺项，使之符合原数列的排列规律：1，1，2，3，5，8，13，21，（ ）

A. 34

B. 37

C. 39

D. 41

78、（单选题）请选择最合理的一项填充所给数列的空缺项，使之符合原数列的排列规律：1，7，13，19，25，（ ）

A. 36

B. 33

C. 31

D. 27

79、（单选题）自然数 12597 能够分解为（ ）个质数之积。

A. 2

B. 3

C. 4

D. 5

80 、(单选题) 某单位辖有 A、B、C 三支施工队，分别编有员工 388 人、289 人、339 人。现将三支施工队整合为人数相等的甲、乙两支施工队，其中 A 队所有员工编入甲队，缺员部分按 3:7 的比例从 B、C 两队抽调，其余人员编入乙队。那么乙队中有 () 人来自 C 队。

- A. 205
- B. 253
- C. 255
- D. 303

81 、(单选题) 已知一个项数为 10 的等差数列，其中奇数项之和为 545，偶数项之和为 590，则其公差为 ()。

- A. 7
- B. 8
- C. 9
- D. 10

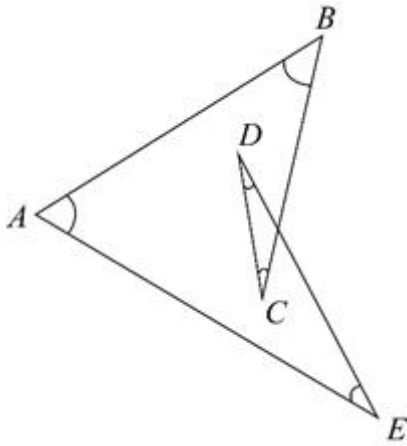
82 、(单选题) 箱子里有 10 个苹果，其中 4 个红苹果，6 个青苹果，从箱子里任取两个苹果，则恰好取到 1 个红苹果和 1 个青苹果的概率为 ()。

- A. $\frac{8}{15}$
- B. $\frac{4}{15}$
- C. $\frac{1}{3}$
- D. $\frac{1}{2}$

83 、(单选题) 某直升机原定以 260 公里的时速飞往目的地，因任务紧急，飞行时速提高到 360 公里，结果提前 1 小时到达，则总的航程是 () 公里。

- A. 900
- B. 936
- C. 1200
- D. 1296

84 、(单选题) 如下图所示，图中 $\angle A + \angle B + \angle C + \angle D + \angle E$ 的度数为 ()。



- A. 90°
- B. 180°
- C. 270°
- D. 360°

85、(单选题) 规定 $x\Delta y = 3x - 2y$ ， $x\nabla y = 3x + 2y$ ，则 $(2\Delta 3)\Delta(2\nabla 3)$ ()。

- A. -24
- B. 12
- C. 0
- D. 24

五、判断推理 (共 10 题, 每题 1.5 分, 共 15 分)

86、(单选题) 珊瑚虫会在自己的身上记下“日历”，它们每天在自己的体壁上刻画一条斑纹。古生物学家发现，3.5 亿年前的珊瑚虫每年会在自己的体壁上刻画 400 条斑纹。天文学家告诉我们，3.5 亿年前的地球上每天仅有约 21.9 小时，1 年是 400 天，而不是现在的 365 天。这说明 ()。

- A. 现在地球自转比 3.5 亿年前变快了
- B. 现在地球自转比 3.5 亿年前变慢了
- C. 现在地球绕太阳公转比 3.5 亿年前变快了
- D. 现在地球绕太阳公转比 3.5 亿年前变慢了

87、(单选题) 下列与所给词语组“三顾茅庐：刘备”在逻辑关系上最为贴近、相似或匹配的词组是 ()。

- A. 投笔从戎：班超
- B. 望梅止渴：曹植
- C. 一字千金：刘邦
- D. 四面楚歌：韩信

88 、(单选题) 下列最合乎逻辑顺序的选项是 ()。

- ①昼夜奋战
- ②发生疫情
- ③城市封闭
- ④交通恢复
- ⑤赶赴灾区

- A. ②—⑤—③—①—④
- B. ②—③—⑤—①—④
- C. ③—②—⑤—①—④
- D. ⑤—④—②—③—①

89 、(单选题) 存折对于 () 相当于 () 对于围墙。

- A. 储户 牛羊
- B. 存款 绿地
- C. 银行卡 栅栏
- D. 银行 庭院

90 、(单选题) 自然失业是由于经济中的一些难以克服的原因引起的失业，它是任何经济形态都难以避免的失业，也是正常的失业。根据以上定义，下列属于自然失业的是 ()。

- A. 王某由于酒后驾车造成人员伤亡，公司以王某违反劳动纪律为由将王某开除
- B. 由于地震，厂房和设备受损，厂长不得已遣散了工人
- C. 由于高速公路收费方式改为 ETC 通道收费，一些人工收费站的工作人员下了岗
- D. 赵某因哥们义气帮朋友要债，失手将欠债人打残，单位以赵某违反劳动纪律为由将赵某开除

91 、(单选题) 大学某班级英语四级报名结束后，甲、乙、丙、丁四位同学在一起讨论报名情况。

甲：“我们班所有同学都报名了。”

乙：“如果班长报名了，那么副班长就没报名。”

丙：“班长报名了。”

丁：“我们班有人没有报名。”

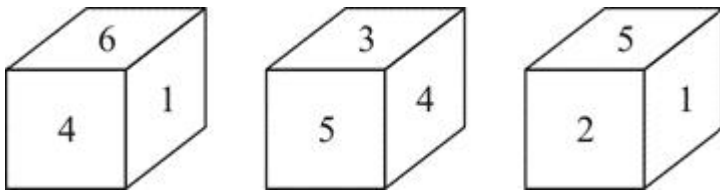
已知四人中只有一个人说假话，则可推出结论 ()。

- A. 甲说假话，副班长没报名
- B. 乙说假话，副班长没报名
- C. 丙说假话，班长没报名
- D. 甲说假话，班长没报名

92 、(单选题) 自我知识是指个体对自己的心智状态的认识, 包括自己当下的经验、思想、信念或愿望的知识。根据上述定义, 下列不属于自我知识的是 ()。

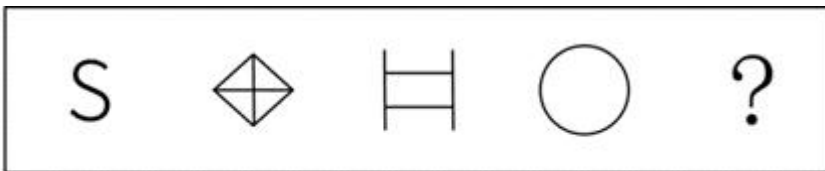
- A. 小李了解所学专业的就业情况后, 决定考研深造
- B. 小杨认识到如果不加强锻炼, 会影响自己的健康
- C. 小王通过网络, 得知某地正在流行一种传染病
- D. 小明相信通过自身努力, 学业一定会取得进步

93 、(单选题) 一个正方体骰子的六个面上分别标注了数字 1、2、3、4、5、6, 从三个不同的角度观察该骰子, 看到如下数字标注。数字 3 对面的数字是 ()。



- A. 1
- B. 2
- C. 4
- D. 6

94 、(单选题) 从所给的四个选项中, 选择最合适的一个填入问号处, 使之呈现一定的规律性的是 ()。



- A.
- B.
- C.
- D.

- A. 如上图所示
- B. 如上图所示
- C. 如上图所示
- D. 如上图所示

95 、(单选题) 生病去医院看病的一般流程为 ()。

- ①化验

②治疗

③诊断

④病愈

⑤就医

A. ①—②—③—④—⑤

B. ②—④—⑤—①—③

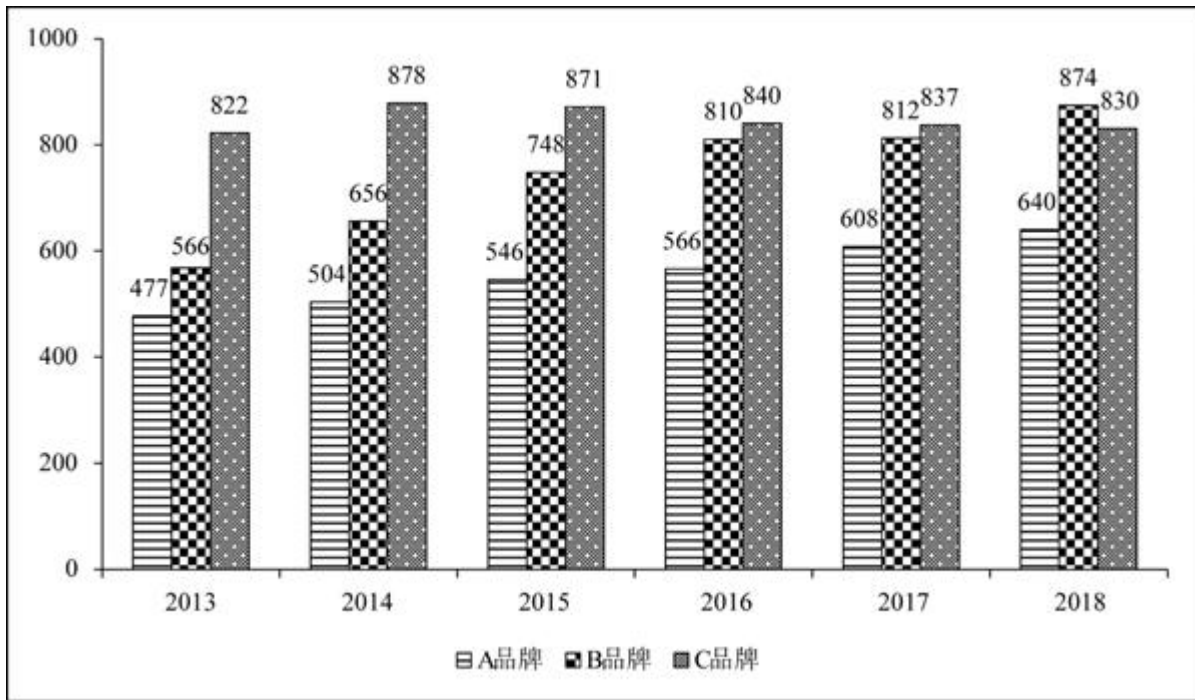
C. ④—②—③—⑤—①

D. ⑤—①—③—②—④

六、资料分析（共 15 题，每题 1 分，共 15 分）

复合题

材料一：某省是我国主要的手机生产地之一，并且生产有多个品牌的手机。下图是该省 2013~2018 年生产的 A 品牌、B 品牌和 C 品牌三个品牌手机的产量，单位：万台。



96、（单选题）2013~2018 年 A、B 两品牌产量之和占三个品牌总数比重最大的一年是（ ）。

- A. 2013 年
- B. 2015 年
- C. 2017 年
- D. 2018 年

97、（单选题）2015~2018 年 B 品牌产量年增长率最小的一年是（ ）。

- A. 2015 年
- B. 2016 年

C. 2017 年

D. 2018 年

98 、(单选题) 2013~2018 年 A 品牌平均年产量与 B 品牌平均年产量的比值约是 ()。

A. 0.95

B. 0.86

C. 0.75

D. 0.51

99 、(单选题) 2013~2018 年 C 品牌产量年增长率最大的一年是 ()。

A. 2014 年

B. 2015 年

C. 2016 年

D. 2017 年

复合题

材料二：1995 年我国主要经济区生产力布局。

地区名称	面积 (万平方公里)	人口数量 (亿)	地区国民生产总值占各 地区总和的比重 (%)
长江三角洲地区	33	1.68	20
环渤海地区	112	2.40	22
中部地区	87.1	3.08	14
珠江三角洲地区	29.9	0.98	13
西南地区	142	2.43	11
东北地区	124	1.13	15
西部地区	307	0.82	5

100 、(单选题) 依据表格数据各地区中人口密度最小的是 ()。

A. 西部地区

B. 中部地区

C. 长江三角洲地区

D. 珠江三角洲地区

101 、(单选题) 表格中各地区人均地区国民生产总值最高的是 ()。

A. 长江三角洲地区

B. 珠江三角洲地区

C. 环渤海地区

D. 东北地区

102 、(单选题) 根据表格数据, 长江三角洲地区国民生产总值是西部地区的 ()。

- A. 4 倍
- B. 5 倍
- C. 2 倍
- D. 3 倍

103 、(单选题) 由表格数据可以推断出 ()。

- A. 面积越大的地区对应的人口越多
- B. 西南地区是表格中七个地区人均国民生产总值最低的地区
- C. 人口数量少对应人口密度就小
- D. 人口多经济发展水平一定高

复合题

材料三: 某市 2019 年 5 月发布的统计数据显示, 2019 年前两个月实现工农业销售总额为 53.67 亿元, 比上年同期增长 28.7%, 其中, 工业销售总额 27.29 亿元, 比上年同期增长 30.1%; 农业销售总额 26.38 亿元, 比上年同期增长 27.4%。

统计数据, 显示在 2019 年 2 月份实现工农业销售总额为 29.69 亿元, 比上年同期增长 58.2%, 增速比 1 月份加快 53.6%。其中, 农业销售总额为 14.75 亿元, 比上年同期增长 55.4%, 增速比 1 月份加快 51.7%; 工业销售总额为 14.95 亿元, 比上年同期增长 61.1%, 增速比 1 月份加快 55.6%。

2019 年前两个月在农业生产中的一般农业和农业深加工销售额都有较大增长, 其中, 一般农业实现销售额 8.97 亿元, 比上年同期增长 31%, 与一月份增幅基本持平, 一般农业销售额增幅高于全市农业销售总额平均增幅 3.6%; 全市农业深加工销售额为 16.67 亿元, 比上年同期增长 24.8%。

2019 年前两个月该市在深圳、广州、上海、北京、天津和南京等六个城市实现农业销售额达 18.38 亿元, 占全市农业销售总额为 69.7%。其中, 在深圳实现销售额 7.3 亿元, 比上年同期增长 12.2%; 在广州为 2.99 亿元, 比上年同期增长 16.2%; 在上海为 2.66 亿元, 比上年同期增长 32%; 在北京为 2.46 亿元, 比上年同期增长 1.2 倍; 在天津为 1.62 亿元, 比上年同期增长 1.8 倍; 在南京为 1.35 亿元, 比上年同期增长 25.4%。

104 、(单选题) 2018 年 1 月份, 该市工农业销售总额为 () 亿元。

- A. 18.7
- B. 19.3
- C. 22.9
- D. 25.9

105 、(单选题) 2019 年前两个月, 该市一般农业销售额占农业销售总额的比重与上年同期相比 ()。

- A. 下降了大约 3.6%

- B. 上升了大约 1%
- C. 上升了 3.6%
- D. 持平

106 、(单选题) 该市 2018 年前两个月在上海实现的农业销售额约为 () 亿元。

- A. 1.41
- B. 1.73
- C. 2.02
- D. 2.82

107 、(单选题) 与 2018 年同期相比, 2019 年前两个月该市在上面六个城市中农业销售额增长最多的是 () 。

- A. 北京
- B. 广州
- C. 天津
- D. 深圳**

复合题

材料四: 2018 年全年粮食种植面积 11704 万公顷, 比上年减少 95 万公顷。其中, 小麦种植面积 2427 万公顷, 减少 24 万公顷; 稻谷种植面积 3019 万公顷, 减少 56 万公顷; 玉米种植面积 4213 万公顷, 减少 27 万公顷; 棉花种植面积 335 万公顷, 增加 16 万公顷; 油料作物种植面积 1289 万公顷, 减少 33 万公顷; 糖料作物种植面积 163 万公顷, 增加 9 万公顷。

2014~2018 年每年粮食产量如下表所示, 单位: 万吨。2018 年全年粮食产量 65789 万吨, 比上年减少 371 万吨, 减产 0.6%。其中, 夏粮产量 13878 万吨, 减产 2.1%; 早稻产量 2859 万吨, 减产 4.3%; 秋粮产量 49052 万吨, 增产 0.1%。全年谷物产量 61019 万吨, 比上年减产 0.8%。其中, 稻谷产量 21213 万吨, 减产 0.3%; 小麦产量 13143 万吨, 减产 2.2%; 玉米产量 25733 万吨, 减产 0.7%。



108 、(单选题) 2018 年粮食种植面积比 2017 年减少约为 ()。

- A. 1.2%
- B. 0.4%
- C. 1.8%
- D. 0.8%

109 、(单选题) 2015~2018 年粮食产量增产比例最大的年份是 ()。

- A. 2015 年
- B. 2016 年
- C. 2017 年
- D. 2018 年

110 、(单选题) 由材料可以判断下列说法不正确的是 ()。

- A. 2014~2018 年粮食产量处于最低点的年份是 2014 年
- B. 2018 年全年粮食产量有所减少, 其中各类粮食产量都有所下降
- C. 2014~2018 年粮食产量一直处于增减交替状态
- D. 2018 年全年粮食种植面积减少, 但棉花和糖料作物种植面积有所增加

参考答案

1、本题考查政治。

历史唯物主义认为人的本质是指人的社会属性。任何人都是现实的、具体的人，都是从事着实践活动、生活于一定社会关系中的，而人的本质就是由实践和各种社会关系造就而成的，因此人的本质就在于人的社会性，是在一定的社会关系中才能体现出来。而人的社会关系是多种多样的，如家庭关系、集体关系、阶层关系、阶级关系、民族关系、历史关系以及经济关系、政治关系、思想关系等等，其中生产关系是最本质的关系。社会关系处于不断变化发展之中，因而作为社会关系总和的人的本质，不是固定不变的抽象物，而是随着社会关系的变化而变化。

故正确答案为C。

2、本题考查政治。

2014年2月27日，习近平总书记主持召开中央网络安全和信息化领导小组第一次会议，在这次会上，习近平总书记强调，网络安全和信息化是事关国家安全和国家发展、事关广大人民群众工作生活的重大战略问题，要从国际国内大势出发，总体布局，统筹各方，创新发展，努力把我国建设成为网络强国。

故正确答案为D。

3、本题考查经济。

国家垄断资本主义是私人垄断资本与国家政权相结合而形成的一种垄断资本主义，它具有双重性：一方面，在资本主义生产关系范围内国家垄断资本主义能在一定时期、一定程度上缓和资本主义的矛盾，促进生产力的发展；另一方面，国家垄断资本主义不能消除资本主义基本矛盾，反而创造了使资本主义固有矛盾加深的条件。因此，在垄断资本主义条件下，政府对经济生活进行干预和调节的实质是维护垄断资产阶级的整体利益和长远利益，暂时缓和资本主义基本矛盾引发的各种问题。

故正确答案为D。

4、本题考查政治。

A项正确，马克思认为，生产力和交往关系的关系在军队中也特别显著，体现在社会物质生产方式对军队的战斗力有决定性的影响，不论是武器装备、军队编制、战略战术，都首先依赖于当时的生产水平和交通状况，因此研究军队、研究战争就要首先了解和研究它所依赖的那个社会经济水平。而既然军队的发展依赖于社会经济的发展，那么以军队为基础战争就成为社会经济发展的产物。

B项错误，题干并未提及政治因素。

C项错误，某些经济关系在战争和军队中比在资产阶级社会内部发展得早，说明在资产阶级社会中，没有战争因素，社会经济也能得到发展，因此战争能加快社会经济发展，但不是唯一推动社会经济发展的因素。

D项错误，某些经济关系在战争和军队中比在资产阶级社会内部发展得早，因此战争对于社会经济的发展有一定的促进作用。

故正确答案为 A。

5、本题考查政治。

习近平总书记指出：“我们既要绿水青山，也要金山银山。宁要绿水青山，不要金山银山，而且绿水青山就是金山银山。”这是重要的发展理念，也是推进现代化建设的重大原则。

“绿水青山就是金山银山”，阐述了经济发展和生态环境保护的关系，揭示了保护生态环境就是保护生产力、改善生态环境就是发展生产力的道理，指明了实现发展和保护协同共生的新路径。生态环境保护和经济发展不是矛盾对立的关系，而是辩证统一的关系。良好生态本身蕴含着无穷的经济价值，能够源源不断创造综合效益，实现经济社会可持续发展。生态环境保护的成败归根到底取决于经济结构和经济发展方式。经济发展不应是对资源和生态环境的竭泽而渔，生态环境保护也不应是舍弃经济发展的缘木求鱼，而是要坚持在发展中保护、在保护中发展。

故正确答案为 A。

6、本题考查政治。

2019年5月31日，习近平总书记在“不忘初心、牢记使命”主题教育工作会议上发表讲话时指出：“人民是我们党执政的最大底气，是我们共和国的坚实根基，是我们强党兴国的根本所在。我们党来自于人民，为人民而生，因人民而兴，必须始终与人民心相印、与人民同甘共苦、与人民团结奋斗。每个共产党员都要弄明白，党除了人民利益之外没有自己的特殊利益，党的一切工作都是为了实现好、维护好、发展好最广大人民根本利益；人民是历史的创造者、人民是真正的英雄，必须相信人民、依靠人民；我们永远是劳动人民的普通一员，必须保持同人民群众的血肉联系。”

故正确答案为 A。

7、本题考查政治。

意识形态工作是党和国家事业的重要组成部分，担负着为党举旗、为国立本、为民族铸魂的使命。党的十九届四中全会《决定》明确提出，要坚持马克思主义在意识形态领域指导地位的根本制度，并将其列为社会主义先进文化制度建设的首要内容。因此，马克思主义在我国社会主义意识形态中占据统摄地位。

故正确答案为 B。

8、本题考查政治。

A、B、D 三项错误，无论是先进的社会意识还是落后的社会意识，都是社会存在的反映，都具有历史继承性和相对独立性。

C 项正确，先进的社会意识反映了社会发展的趋势和要求，从整体上符合了生产力发展的客观要求，因而才对社会发展起着积极的促进作用。

故正确答案为 C。

9、本题考查政治。

毛泽东思想活的灵魂是：实事求是、群众路线、独立自主。实事求是毛泽东思想的精髓，群众路线是中国共产党的根本路线，独立自主是中国革命和建设的基本立足点。

故正确答案为 A。

10、本题考查政治。

在庆祝中国人民解放军建军 90 周年大会上，习近平总书记指出：“党对军队绝对领导的根本原则和制度，发端于南昌起义，奠基于三湾改编，定型于古田会议，是人民军队完全区别于一切旧军队的政治特质和根本优势。”

故正确答案为 D。

11、本题考查政治。

新民主主义革命的动力是工人阶级、农民阶级、城市小资产阶级和民族资产阶级，农民是革命的主力军，而农民问题是中国革命的基本问题。因此，中国革命战争实质上就是党领导下的农民战争，新民主主义革命实质上就是中国共产党领导下的农民革命。

故正确答案为 C。

（注：因为当时的中国仍是半殖民地半封建社会，革命的任务仍是反帝反封建，所以新民主主义革命虽然是由无产阶级领导的，但就其本质而言，仍然是资产阶级民主革命。）

12、本题考查政治。

A 项正确，对立统一规律是唯物辩证法的基本规律之一，揭示了事物发展的动力和源泉，是唯物辩证法的实质和核心。

B 项错误，量变质变规律是唯物辩证法的基本规律之一，揭示了事物变化发展的基本形式和状态。量变是质变的必要准备，质变是量变的必然结果。

C 项错误，否定之否定规律是唯物辩证法的基本规律之一，揭示了事物发展的前进性与曲折性的统一，表明了事物的发展不是直线式前进而是螺旋式上升的。

D 项错误，联系和发展是唯物辩证法的总特征，进一步从各个方面揭示联系和发展，是唯物辩证法的一系列普遍规律和范畴的科学体系。

故正确答案为 A。

13、本题考查政治。

习近平主席在 2019 年 9 月 3 日中央党校（国家行政学院）中青年干部培训班开班式强调：“共产党人的斗争是有方向、有立场、有原则的，大方向就是坚持中国共产党领导和我国社会主义制度不动摇。”

故正确答案为 D。

14、本题考查政治。

习近平主席强调：“民生是人民幸福之基、社会和谐之本。增进民生福祉是我们党坚持立党为公、执政为民的本质要求。就业是最大的民生工程、民心工程、根基工程。要把稳就业摆在突出位置，实施就业优先政策，实现更高质量和更充分就业。”

故正确答案为 B。

15、本题考查经济。

部门之间的竞争和资本在不同部门之间的转移，结果导致平均利润的形成。平均利润本质上是全社会的剩余价值在各生产部门资本家之间的重新分配，体现着整个资产阶级剥削整个工人阶级的经济关系。

故正确答案为 B。

16、本题考查经济。

经济周期也称商业周期、景气循环，经济周期一般是指经济活动沿着经济发展的总体趋势所经历的有规律的扩张和收缩。过去把它分为繁荣、衰退、萧条和复苏四个阶段。

A 项错误，危机阶段：即衰退期，经济增长的速度逐渐变慢，物价和通货走低。债券是最好的投资目标。

B 项错误，萧条阶段：供给和需求下降。该阶段通胀开始上升，现金是适用于该阶段的资产。

C 项正确，复苏阶段：经济加速向上，通胀下降。股票对经济的弹性最大，成为了最佳投资目标。主要特点是就业人数增加、社会生产恢复和发展到危机前水平。

D 项错误，繁荣阶段：经济和通货膨胀加速上升，企业盈利水平上升，大宗商品是最佳选择。

故正确答案为 C。

17、本题考查经济。

价值规律是商品生产和商品交换的基本经济规律，即商品的价值量取决于社会必要劳动时间，商品按照价值相等的原则互相交换。价值规律的表现形式是价格围绕价值上下波动。

故正确答案为 D。

18、本题考查政治。

生产关系是人们在物质生产过程中形成的不以人的意志为转移的经济关系。生产关系是人类社会存在和发展的基础，是人类社会中最基本的关系。

故正确答案为 D。

19、本题考查政治。

要素市场是对劳动、资本、土地、知识、技术、管理、数据等要素资源进行交换和配置的场所。各市场主体在要素市场上按照价值规律进行交换，有助于实现要素价值和要素合理配置。党的十九届四中全会《中共中央关于坚持和完善中国特色社会主义制度，推进国家治理体系和治理能力现代化若干重大问题的决定》提出，“推进要素市场制度建设，实现要素价格市场决定、流动自主有序、配置高效公平”，这为加快完善社会主义市场经济体制指明了重点。

故正确答案为 A。

20、本题考查经济。

现代企业制度是以企业法人制度为主体、以有限责任制度为核心、以专家经营为特征的新型企业制度。公司制是同社会化大生产和现代市场经济相适应的企业制度，是发达的市场经济中占主要地位的企业组织形式。现代公司制企业的主要形式是有限责任公司和股份有限公司。公司制的特点是公司的资本来源广泛，使大规模生产成为可能；出资人对公司只负有限责任，投资风险相对降低；公司拥有独立的法人财产权，保证了企业决策的独立性、连续性和完整性；所有权与经营权相分离，为科学管理奠定了基础。

故正确答案为 C。

21、本题考查经济。

A 项错误，商品具有使用价值和价值两种属性，使用价值是商品的自然属性。

B 项正确，价值是凝结在商品中的无差别的人类劳动，是商品的特有属性和本质属性。

C 项错误，交换价值是商品交换的比例关系。

D 项错误，价格是价值的货币表现形式。

故正确答案为 B。

22、本题考查政治。

党的十九大报告指出：“经济体制改革必须以完善产权制度和要素市场化配置为重点，实现产权有效激励、要素自由流动、价格反应灵活、竞争公平有序、企业优胜劣汰。”

故正确答案为 A。

23、本题考查经济。

A 项错误，《中共中央关于经济体制改革的决定》指出：“考虑到我国目前商品经济还很不发达，必须大力发展商品生产和商品交换的实际情况，建立这样的计划体制的需要就更加迫切。”社会主义商品经济存在商品生产和商品交换，但在《决定》中并未明确提出。

B 项正确，《中共中央关于经济体制改革的决定》指出：“改革计划体制，首先要突破把计划经济同商品经济对立起来的传统观念，明确认识社会主义计划经济必须自觉依据和运用价值规律，是在公有制基础上的有计划的商品经济。”

C 项错误，党的十四大明确提出：“我国经济体制改革的目标是建立社会主义市场经济体制，以利于进一步解放和发展生产力。”

D 项错误，《中共中央关于经济体制改革的决定》指出：“实行计划经济同运用价值规律、发展商品经济，不是互相排斥的，而是统一的，把它们对立起来是错误的。”计划经济和市场经济的统一是社会主义商品经济的特征。

故正确答案为 B。

24、本题考查经济。

改革开放后，我国利用外资主要采取间接和直接利用两种形式。间接利用外资，指向境外政府组织、国际金融组织、外国银行贷款、出口信贷和对外发行债券等，也就是举借外债；而直接利用外资就是外商直接投资，其方式主要有“三来一补”（来样加工、来料加工、来件装配和补偿贸易）和“三资企业”（中外合资经营企业、中外合作经营企业、外商独资经营企业）。

故正确答案为D。

25、本题考查法律常识。

劳动法律关系是当事人依据劳动法律规范，在实现劳动过程中形成的权利义务关系。

A项错误，《劳动法》第十五条第一款规定：“禁止用人单位招用未满十六周岁的未成年人。”某宾馆雇佣童工的行为是违法行为，雇佣关系并不等同于劳动关系，宾馆雇佣童工的行为不能产生劳动法律关系。

B项错误，甲和所在单位协议改变岗位，双方未重新签订劳动合同，并未产生劳动法律关系。

C项正确，乙与公司签订劳动合同，上岗就业，双方在用工的过程中，形成权利义务关系，产生了劳动法律关系。

D项错误，丙和公司协议延期，是劳动法律关系的延续，并未产生新的劳动法律关系。

故正确答案为C。

26、本题考查军队国防。

根据《国防法》第五十五条规定：“公民和组织因国防建设和军事活动在经济上受到直接损失的，可以依照国家有关规定取得补偿。”

故正确答案为B。

27、本题考查法律常识。

根据《宪法》第七条规定：“国有经济，即社会主义全民所有制经济，是国民经济中的主导力量。国家保障国有经济的巩固和发展。”

故正确答案为B。

28、本题考查法律常识。

A项错误，根据《中华人民共和国宪法》第八十五条规定：“中华人民共和国国务院，即中央人民政府，是最高国家权力机关的执行机关，是最高国家行政机关。”同时根据《中华人民共和国宪法》第一百零五条规定：“地方各级人民政府是地方各级国家权力机关的执行机关，是地方各级国家行政机关。”因此，我国的行政机关包括中央行政机关和地方行政机关，即国务院和地方各级人民政府。

B项错误，根据《中华人民共和国宪法》第一百二十八条规定：“中华人民共和国人民法院是国家的审判机关。”

C项正确，根据《中华人民共和国宪法》第一百二十三条规定：“中华人民共和国各级监察委员会是国家的监察机关。”

D项错误，根据《中华人民共和国宪法》第一百三十四条规定：“中华人民共和国人民检察院是国家的法律监督机关。”

故正确答案为C。

29、本题考查法律常识。

《宪法》第四条第三款规定：“各少数民族聚居的地方实行区域自治，设立自治机关，行使自治权。各民族自治地方都是中华人民共和国不可分离的部分。”

《民族区域自治法》序言第一段规定：“中华人民共和国是全国各族人民共同缔造的统一的多民族国家。民族区域自治是中国共产党运用马克思列宁主义解决我国民族问题的基本政策，是国家的一项基本政治制度。”

故正确答案为A。

30、本题考查法律常识。

法律是由国家制定或认可并以国家强制力保证实施的，反映由特定物质生活条件所决定的统治阶级意志，以权利和义务为内容的行为规范体系。

A项错误、D项正确，法律的内容是由统治阶级所处社会的物质生活条件所决定的。

B项错误，法律的本质就是统治阶级实现阶级统治的工具。具体地说，它是指国家按照统治阶级的利益制定或认可，并以国家强制力保证其实施的行为规范的总和。

C项错误，法律是调整人的行为的社会规范，法律只调整人的外部行为，不调整人的内心思想，但可以通过调整人的外部行为来影响人的思想观念。

故正确答案为D。

31、本题考查法律常识。

根据《中华人民共和国商标法》第三十九条规定：“注册商标的有效期限为十年，自核准注册之日起计算。”

故正确答案为B。

32、本题考查政治。

第十三届全国人民代表大会第三次会议于2020年5月28日下午在人民大会堂闭幕。大会通过了《中华人民共和国民法典》，国家主席习近平签署第45号主席令公布这部法律。

故正确答案为B。

33、本题考查法律常识。

《著作权法》第十条规定：“著作权包括下列人身权和财产权：（一）发表权，即决定作品是否公之于众的权利；（二）署名权，即表明作者身份，在作品上署名的权利；（三）修改权，即修改或者授权他人修改作品的权利；（四）保护作品完整权，即保护作品不受歪曲、篡改的权利；（五）复制权，即以印刷、复印、拓印、录

音、录像、翻录、翻拍等方式将作品制作一份或者多份的权利；（六）发行权，即以出售或者赠与方式向公众提供作品的原件或者复制件的权利；（七）出租权，即有偿许可他人临时使用电影作品和以类似摄制电影的方法创作的作品、计算机软件的权利，计算机软件不是出租的主要标的的除外；（八）展览权，即公开陈列美术作品、摄影作品的原件或者复制件的权利；（九）表演权，即公开表演作品，以及用各种手段公开播送作品的表演的权利；（十）放映权，即通过放映机、幻灯机等技术设备公开再现美术、摄影、电影和以类似摄制电影的方法创作的作品等的权利；（十一）广播权，即以无线方式公开广播或者传播作品，以有线传播或者转播的方式向公众传播广播的作品，以及通过扩音器或者其他传送符号、声音、图像的类似工具向公众传播广播的作品的权利；（十二）信息网络传播权，即以有线或者无线方式向公众提供作品，使公众可以在其个人选定的时间和地点获得作品的权利；（十三）摄制权，即以摄制电影或者以类似摄制电影的方法将作品固定在载体上的权利；（十四）改编权，即改变作品，创作出具有独创性的新作品的权利；（十五）翻译权，即将作品从一种语言文字转换成另一种语言文字的权利；（十六）汇编权，即将作品或者作品的片段通过选择或者编排，汇集成新作品的权利；（十七）应当由著作权人享有的其他权利。”

故正确答案为 A。

34、本题考查军队国防。

《国防法》第四条规定：“国家独立自主、自力更生地建设和巩固国防，实行积极防御战略，坚持全民自卫原则。国家在集中力量进行经济建设的同时，加强国防建设，促进国防建设与经济建设协调发展。”

上述两则民谣，主要表达的就是老少民兵一起抗击敌人的故事。表明的正是我国国防活动的全民自卫的原则。

故正确答案为 A。

35、本题考查政治。

2019年8月22日，国家统计局发布的《新中国成立70周年经济社会发展成就系列报告之二十一——〈人口总量平稳增长 人口素质显著提升〉》报告显示，新中国成立70年以来，我国人口形势发生了深刻变化，劳动力总量充裕、人口素质显著提升。新中国成立之初到1957年，中国人口再生产类型较快实现了第一次转变，进入了高出生率、低死亡率、高自然增长率的过渡型阶段；进入20世纪70年代，生育率得到有效控制，人口再生产类型开始出现以出生率下降为主的第二次转变。目前，我国人口增长已经进入低出生率、低死亡率、低自然增长率的现代模式。

故正确答案为 B。

36、本题考查人文常识。

“草木皆兵”这则成语出自《晋书·苻坚载记》，意思是把草木都当成敌兵。与淝水之战有关。淝水之战是东晋十六国时期北方的统一政权前秦向南方东晋发起的侵略吞并的一系列战役中的决定性战役，前秦被东晋彻底击溃，损失惨重，秦王苻坚受伤，仓皇而逃，他听到风吹树木的声音以为是敌人追兵到了。

故正确答案为 D。

37、本题考查人文常识。

中央集权制度是中国古代最重要的政治制度。中央集权制度的实行有利于多民族封建国家的建立、巩固和发展；有利于维护国家的统一和领土的完整，能有效地组织人力、物力和财力进行大规模的经济建设和生产活动，有利于社会经济的发展；在统一的社会环境下，有利于民族大融合，有利于各地区经济、文化的交流、发展和提高，使我国古代人民创造了领先于世界的古代文明。中央集权制度对我国封建社会产生的最主要的积极影响是维护了多民族国家的统一。

故正确答案为 A。

38、本题考查政治。

党的十九大报告指出：“坚持推动构建人类命运共同体。中国人民的梦想同各国人民的梦想息息相通，实现中国梦离不开和平的国际环境和稳定的国际秩序。必须统筹国内国际两个大局，始终不渝走和平发展道路、奉行互利共赢的开放战略，坚持正确义利观，树立共同、综合、合作、可持续的新安全观，谋求开放创新、包容互惠的发展前景，促进和而不同、兼收并蓄的文明交流，构筑尊崇自然、绿色发展的生态体系，始终做世界和平的建设者、全球发展的贡献者、国际秩序的维护者。”

本题为选非题，故正确答案为 A。

39、本题考查法律常识

根据《宪法》第三十条规定：“中华人民共和国的行政区域划分如下：（一）全国分为省、自治区、直辖市；（二）省、自治区分为自治州、县、自治县、市；（三）县、自治县分为乡、民族乡、镇。”即我国地方行政区划分为省、县、乡三个级别，但因为省一级政府没有办法直接管理太多的县，只好在省和县之间安插一级不受宪法承认的地级市来“分担工作”。

故正确答案为 C。

40、本题考查政治。

2019年3月30日上午，“双千兆第一区”开通仪式在上海市虹口区举行，并拨通了首个5G手机通话，标志着上海成为全国首个中国移动5G试用城市。

故正确答案为 B。

41、本题考查军队国防。

习近平总书记坚持从政治上思考和处理军事问题。他指出：“改革是决定当代中国命运的关键一招，也是决定我军发展壮大、制胜未来的关键一招。深化国防和军队改革，是为了设计和塑造军队未来，既要立足当前，又要着眼长远。深化国防和军队改革，是全力推进国防和军队现代化，实现中国梦强军梦的时代要求。”

故正确答案为 C。

42、本题考查政治。

习近平主席深刻指出：“在战争制胜问题上，人是决定因素。无论时代条件如何发展，战争形态如何演变，这一条永远不会变。”

故正确答案为 B。

43、本题考查军队国防。

我国古代的国防是指从公元前 21 世纪夏王朝的建立到 1840 年鸦片战争。共经历了近四千年的漫长历史，形成较为完整的古代国防理论体系。

故正确答案为 A。

44、本题考查军队国防。

国防的基本类型：

第一类：进攻性国防。

1、扩张型：即奉行霸权主义侵略扩张政策的国防。

2、联盟型：即以联盟的形式进行防卫。

第二类：防御性国防。

1、自卫型：保卫祖国，抵抗侵略的国防类型。

2、中立型：采用严守中立国防政策国家的国防。

故正确答案为 B。

45、本题考查政治。

A 项、C 项错误，实事求是、群众路线、独立自主是毛泽东思想的活的灵魂。

B 项正确，2013 年 6 月 18 日，习近平总书记在党的群众路线教育实践活动工作会议上的讲话中指出：“群众路线是我们党的生命线和根本工作路线”。

D 项错误，统一战线、武装斗争、党的建设是新民主主义革命的三大法宝，是毛泽东对中国新民主主义革命经验的基本总结。

故正确答案为 B。

46、本题考查政治。

党的十九大报告指出：“军队是要准备打仗的，一切工作都必须坚持战斗力标准，向能打仗、打胜仗聚焦。”

故正确答案为 B。

47、本题考查军队国防。

中国人民志愿军是中华人民共和国在 1950 年 10 月 25 日，参加抗美援朝的中国方面部队的名称。1950 年 10 月，应朝鲜党和政府的请求，党中央作出了抗美援朝、保家卫国的战略决策，毛泽东主席签署命令，任命彭德怀为中国人民志愿军司令员兼政治委员，邓华为副司令员兼副政治委员，洪学智、韩先楚、宋时轮、陈赓为副司令员，解方任参谋长。

故正确答案为 C。

48、本题考查政治常识。

《习近平新时代中国特色社会主义思想学习纲要》中指出：维护重点领域国家安全是主阵地、主战场。全面贯彻落实总体国家安全观，要聚焦重点，抓纲带目，把确保政治安全作为首要任务，统筹推进各重点领域国家安全工作。维护政治安全。政治安全的核心是政权安全和制度安全，最根本的就是维护中国共产党的领导和执政地位、维护中国特色社会主义制度。各种敌对势力从来没有停止对我国实施西化、分化战略，从来没有停止对中国共产党领导和我国社会主义制度进行颠覆破坏活动，始终企图在我国策划“颜色革命”。

故正确答案为 D。

49、本题考查军队国防。

1948年1月30日，毛泽东总结军队开展民主运动的经验，为中共中央革命军事委员会起草了《军队内部的民主运动》的指示，将军队内部的民主生活概括为政治民主、经济民主、军事民主。1960年9月，中央军委扩大会议把“贯彻群众路线，发扬三大民主”写进《关于加强军队政治思想工作的决议》，《决议》指出：“实行政治、经济、军事三大民主，实行官兵一致、军民一致，是我军固有的优良传统，也是党的群众路线在军队中的体现。”

故正确答案为 A。

50、本题考查军队国防。

《中国人民解放军保密条例》在总则部分规定保密工作在军队建设全局中的地位作用，指出：“保密工作是军队建设经常性、基础性的工作，是巩固战斗力、完成各项任务的重要保证。”

故正确答案为 B。

51、本题考查政治。

2020年2月23日，统筹推进新冠肺炎疫情防控和经济社会发展工作部署会议在北京召开。习近平强调，新冠肺炎疫情发生后，党中央高度重视，审时度势、综合研判，及时提出坚定信心、同舟共济、科学防治、精准施策的总要求，及时制定疫情防控战略策略，把提高收治率和治愈率、降低感染率和病亡率作为突出任务来抓。

故正确答案为 ABCD。

52、本题考查政治。

在《习近平新时代中国特色社会主义思想三十讲》的第二十五讲中，习近平总书记指出：“保持香港、澳门长期繁荣稳定，必须全面准确贯彻‘一国两制’、‘港人治港’、‘澳人治澳’、高度自治的方针，确保‘一国两制’方针不会变、不动摇，确保‘一国两制’实践不变形、不走样。

贯彻这一方针，首先必须正确理解和把握‘一国’和‘两制’的关系。‘一国两制’是一个完整的概念。‘一国’是实行‘两制’的前提和基础，‘两制’从属和派生于‘一国’，并统一于‘一国’之内。‘一国’是根，根

深才能叶茂；‘一国’是本，本固才能枝荣。要认识到，国家主体坚持实行社会主义制度，是香港、澳门实行资本主义制度、保持繁荣稳定的前提和保障；香港、澳门依照基本法实行‘港人治港’、‘澳人治澳’、高度自治，必须充分尊重国家主体实行的社会主义制度。要把坚持‘一国’原则和尊重‘两制’差异有机结合起来，做到坚守‘一国’之本，实现‘两制’和谐相处、相互促进，把实行社会主义制度的内地建设好，把实行资本主义制度的香港、澳门建设好。”

故正确答案为 ABCDE。

53、本题考查政治。

党的十九届四中全会指出：“坚持和完善社会主义基本经济制度，推动经济高质量发展。公有制为主体、多种所有制经济共同发展，按劳分配为主体、多种分配方式并存，社会主义市场经济体制等社会主义基本经济制度，既体现了社会主义制度优越性，又同我国社会主义初级阶段社会生产力发展水平相适应，是党和人民的伟大创造。”

故正确答案为 ABC。

54、本题考查政治。

“十三五”规划纲要指出，推进“一带一路”建设，秉持亲诚惠容，坚持共商共建共享原则，开展与有关国家和地区多领域互利共赢的务实合作，打造陆海内外联动、东西双向开放的全面开放新格局。

故正确答案为 ACE。

55、本题考查政治。

A 项正确，党的领导是中国特色社会主义最本质的特征，是社会主义法治最根本的保证。坚持中国特色社会主义法治道路，最根本的是坚持中国共产党的领导。

B 项正确，列宁关于无产阶级专政与社会主义法治的思想，关于执政党领导地位的思想是社会主义法治理念中党的领导理念的理论根据，可以作为党领导法治事业的理论来源。

C 项正确，党的领导要把党所倡导的“依法治国，建设社会主义法治国家”等政治文明理念贯彻落实到党对法治实践活动的领导中来。

D 项错误，党对法治事业的领导集中表现为思想领导、政治领导和组织领导。例如，社会主义法治事业必须坚持党的指导思想主导地位，坚持思想领导；必须贯彻党的路线、方针、政策，坚持政治领导；人民法院、人民检察院、公安机关等政法机关都设置党委，在党委领导下开展工作，党的政法委员会统一协调领导政法机关，体现了党对法治事业的组织领导。

E 项正确，党的十八届四中全会强调，社会主义法治必须坚持党的领导，党的领导必须依靠社会主义法治。

故正确答案为 ABCE。

56、本题考查法律常识。

《宪法》序言第十段规定：“在长期的革命、建设、改革过程中，已经结成由中国共产党领导的，有各民主党派和各人民团体参加的，包括全体社会主义劳动者、社会主义事业的建设者、拥护社会主义的爱国者、拥护祖国统一和致力于中华民族伟大复兴的爱国者的广泛的爱国统一战线，这个统一战线将继续巩固和发展。”所以爱国统一战线包括全体社会主义劳动者、社会主义事业的建设者、拥护社会主义的爱国者、拥护祖国统一和致力于中华民族伟大复兴的爱国者，不包括我国公民。

故正确答案为 ABCD。

57、本题考查军队国防。

A 项错误，国际恐怖主义是指国际社会中某些组织或个人采取绑架、暗杀、爆炸、空中劫持、扣押人质等恐怖手段，企求实现政治目标或某项具体要求的主张和行动，一般都带有政治色彩。

B 项正确，国际恐怖主义罪行具有国际性，跨国性，有组织性，活动方式多样性和危害严重性等特征，打击国际恐怖主义，需要世界各国相互合作，共同应对。

C 项正确，美国和西欧的个别国家利用国际恐怖主义为工具，打着反恐旗号推行霸权主义和强权政治。

D 项正确，发达国家凭借其强大的政治、经济、军事实力对发展中国家施加压力，发达国家与发展中国家之间仍然存在剥削与反剥削、掠夺与反掠夺、控制与反控制的矛盾，不公平的国际政治经济旧秩序使贫富差距呈扩大趋势。这种差距本身就是不稳定因素，使国际社会动荡不安，给了国际恐怖主义可乘之机。

E 项错误，在“9·11”事件刚刚爆发时，反恐成为美国的头等大事，恐怖主义被认为是美国的首要威胁。随着反恐形势的变化以及国际战略格局的演进与发展，情况发生了变化。现在，美国将大国竞争作为首要威胁，恐怖主义只是美国本土安全的威胁之一，而不再是最主要威胁。

故正确答案为 BCD。

58、本题考查政治。

2019 年 12 月 20 日，习近平主席在庆祝澳门回归祖国 20 周年大会暨澳门特别行政区第五届政府就职典礼上发表重要讲话，讲话指出：“总结澳门‘一国两制’成功实践，可以获得以下 4 点重要经验。第一，始终坚定‘一国两制’制度自信。第二，始终准确把握‘一国两制’正确方向。第三，始终强化‘一国两制’使命担当。第四，始终筑牢‘一国两制’社会政治基础。”

故正确答案为 ABCE。

59、本题考查政治。

党的十九大报告指出：“适应世界新军事革命发展趋势和国家安全需求，提高建设质量和效益，确保到二〇二〇年基本实现机械化，信息化建设取得重大进展，战略能力有大的提升。同国家现代化进程相一致，全面推进军事理论现代化、军队组织形态现代化、军事人员现代化、武器装备现代化，力争到二〇三五年基本实现国防和军队现代化，到本世纪中叶把人民军队全面建成世界一流军队。”

故正确答案为 ABDE。

60、本题考查军队国防。

党对军队绝对领导的制度。这些制度主要包括四个方面的内容。第一，最高层面，即军队的最高领导权、指挥权属于中共中央和中央军委，中央军委实行主席负责制。这是党对军队绝对领导的集中体现和最高要求。在党对军队绝对领导一整套制度体系中，军委主席负责制处于最高层次、居于统领地位，是坚持党对军队绝对领导的根本制度和根本实现形式。第二，组织支撑，即实行党委制、政治委员制、政治机关制。党在团和相当于团级以上部队的单位设立党的委员会、政治委员和政治机关。这些制度实现了党的组织结构与军队体制编制的有机结合，明确了开展政治工作的责任主体和主管部门，是党从思想上政治上组织上建设和掌握部队的重要支撑。第三，“定海神针”，即实行党委统一的集体领导下的首长分工负责制。这一制度，明确了党委在部队建设中的领导地位、领导原则和领导方式，明确了首长在执行党委决策中的责任，是民主集中制在军队领导制度上的具体运用。第四，直达基层，即实行支部建在连上。作为党在军队最基层的一级组织，党支部是我们党团结和联系广大官兵最直接最重要的形式，是党的力量增长的源泉，是党在军队的战斗堡垒。支部建在连上，是党指挥枪原则落地生根的坚实基础。

故正确答案为 ABCD。

61、本题可从第三空入手，横线处搭配“目标”，根据“均有其工作的目标和重点”可知，“目标”为本身具备的，A、B 两项“制定”指订立，强调从无到有的过程，与文意不符，排除；根据“抓住重点，有所取舍”可知，该目标一定是清晰、明确的，D 项“明确”目标符合文意，保留；C 项“实现”目标指将目标实现，无法突出目标的清晰性、明确性，排除。

第一空代入验证，横线处填入的词对应“七百多年”，“春秋”代表年份，符合文意，保留。

第二空代入验证，根据“不同管理层次，不同岗位”可知，横线处填入的词强调不同、区别，“差别”指区别、差异，符合文意，保留。

第四空代入验证，集中“精力”做我们该做的事，对应前文“抓住重点，有所取舍”，符合文意，当选。

故正确答案为 D。

62、A 项，“养在深闺人未识”出自《长恨歌》，原意为养在深闺中，外人不知她美丽绝伦，这里用来表达文物与艺术爱好者距离远、感情认同淡，词语使用正确，排除；

B 项，根据“北方草原的中山国历经数百年已与中原民族渐趋融合”可知，中山国文化与中原文明逐渐融合，云纹造型的柔和之美也出现在其文物上，故文意与“动静”无关，应体现出“刚柔并济”之意，词语使用错误，当选；

C 项，“此生无悔入华夏，来世愿在种花家”意为为自己生在中国而感到光荣自豪，希望来生能再次生在中国，与文段所强调的“对中国的幸福感和自豪感”相符，词语使用正确，排除；

D 项，“蓝色妖姬”用来代指海王星和天王星，准确地概括了其外观形态，且能体现其神秘之感，词语使用正确，排除；

本题为选非题，故正确答案为B。

63、A项，根据“最近……天文学家去年利用位于智利的超大望远镜拍摄到另一个‘太阳系’行星的照片”可知，时间为“最近”，选项表述不全面，排除；

B项，根据“观测报告根据它一年来的运动轨迹证明，该物体确实是系外行星”可知，“观测报告”使得他们相信自己的确第一次拍到了另一个“太阳系”行星的照片，选项表述符合消息内容，当选；

C项，根据“最近……天文学家去年利用位于智利的超大望远镜拍摄到另一个‘太阳系’行星的照片”可知，时间为“最近”，选项表述不全面，排除；

D项，根据“观测报告根据它一年来的运动轨迹证明，该物体确实是系外行星”可知，“观测报告”使得他们相信自己的确第一次拍到了另一个“太阳系”行星的照片，选项表述不明确，排除。

故正确答案为B。

64、A项，“一连串发生的事情”语序不当，应改为“发生的一连串事情”，存在语病，排除；

B项，“一个共产主义战士的”与“共产党员的”语义重复，可将“一个共产主义战士的”或者“共产党员的”删掉其一，存在语病，排除；

C项，“飞快的”和“特快列车”语义重复，可改为“飞快的18次列车向北京奔驰”或者“18次特快列车向北京奔驰”，存在语病，排除；

D项，“火车开往祖国的四面八方”，无语病，当选。

本题为选非题，故正确答案为D。

65、A项，既可以理解为“他背着爸爸和妈妈，自己偷偷地存了钱”，也可以理解为“他背着爸爸，和妈妈一起偷偷地存了钱”，语意不明确，排除；

B项，“赠送给他”指代不明确，“他”可以指代“嘉宾”，也可以指代“嘉宾之外的其他人”，语意不明确，排除；

C项，“差一点儿就没及格”意为已经及格，语意明确，当选；

D项，“几个学校的领导”既可以理解为“同一个学校的几个领导”，也可以理解为“几个不同学校的领导”，语意不明确，排除。

故正确答案为C。

66、文段开篇提出材料的“选择与安排”对作文运思的重要性，接下来对“生糙的材料”进行具体论证指出，后来人所想所说表面上是前人的老生常谈，但在其特殊的生活情境与经验下，通过“选择与安排”可以赋予“生糙的材料”以新的形式和新的生命，造就“新鲜的作品”，故文段主要意思是强调“选择与安排”可以化“生糙”为“新鲜”，即“创作艺术的锤炼”，对应A项。

B项，对应文段具体论证的内容，后来人与前人对老生常谈的材料可以有不同的选择与安排，但文段强调的是“选择与安排”对新创作的重要性，而不是不同作者的做法，排除；

C项，对应文段首句，但整个文段没有强调“选择与安排”的“艰苦”，更多是侧重“选择与安排”，借助作者特殊的生活情境与经验可以创作出“新鲜的作品”，非重点，排除；

D项，对应文段具体论证的内容，缺乏主题词“材料的选择与安排”，非重点，排除。

故正确答案为A。

67、A项，“即使”表示假设的让步，常与“也”连用成为关联词，说出结论，“虽然”表示让步，承认某事为事实，常与“但”搭配。“每个作家都有自己的风格”是事实，而非假设，将“即使”改为“虽然”更合适，排除；

B项，“不只是……而且是”“不是……而是”分别是常见的关联词搭配，“学校”是“整个社会”的一方面力量，前后具有递进关系，故改为常见的关联词组合“不只是……而且是……”更恰当，排除；

C项，“只有”表示必需的条件，下文常用“才”“方”呼应，“认识”是“行为”的必需条件，当选；

D项，“从而”表示目的或结果，一般上文指明原因、条件、方法等，“从而”后面一般不加标点符号。“因而”常用在后一分句开头，单独使用表示因果关系，后面可以加标点符号，故将“从而”改为“因而”更恰当，排除。

故正确答案为C。

68、A项，“言之不预”意为没有把话说在前头、未提前通知提醒，“预”在此处指“预先、提前”，“预料”指的是“事先推测”，并非正确解释。“前倨后恭”指以前傲慢，后来恭顺。“倨”意为“傲慢”，解释正确。故不完全正确，当选；

B项，“痛改前非”指彻底改正以前所犯的过错，“痛”意为“彻底”，解释正确。“坚忍不拔”形容意志坚定，不可动摇，“拔”可解释为“移动、改变”，解释正确，排除；

C项，“挂一漏万”形容列举不全，遗漏很多，“挂”意为“列举”，解释正确。“贻笑大方”指给懂行的人留下笑柄，“贻”意为“留下”，解释正确，排除；

D项，“名不虚传”指确实很好，不是空有虚名，“名”意为“名誉”，解释正确。“方兴未艾”形容事物正在蓬勃发展，一时不会终止，“方”意为“正在”，解释正确，排除。

本题为选非题，故正确答案为A。

69、对仗，是指诗词创作及对联写作时运用的一种特殊表现形式和手段。它要求诗词联句在对偶基础上，上下句同一结构位置的词语必须“词性一致，平仄相对”，并力避上下句同一结构位置上重复使用同一词语。

第一联，从“词性一致”角度分析，“穷千里”与“何苦赊”不相对，不符合对仗要求，排除；

第二联，“芳林”与“候馆”均为地名，“逢”和“噪”均为动词，“旅雁”与“山鸦”均为意象，词性相同且平仄符合要求，保留；

第三联，“春入”与“花开”相对应，“河边草”与“水上槎（水生植物）”相对应，词性和平仄均符合要求，保留；

第四联，从“词性一致”角度分析，“一樽酒”与“独思家”不相对，不符合对仗要求，排除。

故正确答案为B。

70、A项，根据“全球首款基于视觉识别做到侧面跟随、智能避障的OVIS智能行李箱发布”可知，“智能避障”只是目的之一，表述片面，排除；

B项，根据文段可知，该款行李箱多次获奖，具有多项实用功能且符合安检标准，据此推测其将会受到用户欢迎，选项符合题意，当选；

C项，根据“全球首款基于视觉识别做到侧面跟随、智能避障的OVIS智能行李箱”可知，该行李箱是“基于视觉识别……的全球‘首款’”，选项“全球首款智能行李箱”范围扩大，排除；

D项，“充电电池使用期限”文段未提及，无中生有，排除。

故正确答案为B。

71、对比选项，确定首句。首句为②③④句，②句具体论述活着是什么，③句为疑问句，引出话题“我们为什么活着？”，④句举例论述活着是什么，对比之下，应先提出问题，再回答问题，故③句更适合作首句，排除B、C两项。

对比A项和D项，看衔接。A项，③①句后为④句，①句讲活着要敬畏尊重生命，④句讲活着是幸福和快乐，话题不一致，衔接不当，排除。

验证D项，③句首先通过疑问句引出话题“活着”，①句句式为“活着……”，⑤句通过“同时”连接并列前后两个句式一致的句子，提出活着是幸福和快乐的；接下来②④句分别举例具体论述活着是幸福体验和快乐享受。

故正确答案为D。

72、A项，根据“凤舞团团饼，恨分破、教孤令”可知，“茶饼上印着团团起舞的凤凰，将茶饼分开，凤凰好像各自分飞，让人遗憾”表述正确，排除；

B项，根据“汤响松风，早减了、二分酒病”可知，“汤响松风”是比喻手法，指煮茶的沸腾声如风过松林，选项中“听着茶水的沸腾声和掠过松林的风声”表述错误，当选；

C项，根据“金渠体净，只轮慢碾，玉尘光莹”可知，“词人将茶饼用洁净的金渠细心碾成琼粉玉屑，但见茶末成色纯净，清亮晶莹”表述正确，排除；

D项，根据文段，词人上阕通过对分茶、碾茶、煮茶过程及心境的描写，表现了品茶过程的享受。下阕描述以酒意衬托茶的味浓香永，渐成佳境。就“好比独对孤灯之时有故人从万里之外赶来相逢的感受”抒写喝茶后的惬意。词意与选项相符，排除。

本题为选非题，故正确答案为B。

73、横线前后均有内容，应注重与前后文的衔接。文段开篇提出“汉文化所以不同于其他民族的文化”，对比选项开头，②为“所以不同于”的句式，与前文句式相同，可构成并列；①、④与前文衔接不当，排除A、B两项。

对比C项和D项，③仍为“所以不同于”句式，与前文句式相同，可构成并列，故②③应紧密相连，锁定D项。

验证D项，文段先用三个并列句式阐述中国的“文化”、“人”、“艺术”与其他的不同；然后总结，其无论好坏，思想均应追溯到先秦孔学，同时表明，孔子在塑造此领域的历史地位是难以否定的，逻辑通顺合理。

故正确答案为D。

74、“这”出现在文段第二句，重点关注指代词之前的内容。第一句指出知识的生产、应用和扩散的效率与知识的积累及人力资本正相关，故下文所说“这”指代的应是前文两个因素，即“知识的积累”和“人力资本”，对应C项。

A项、D项，“知识的生产、应用和扩散”三者并列，表述不完整，且非指代内容，排除；

B项，“知识的积累”仅为指代内容的一方，片面，排除。

故正确答案为C。

75、A项，因全句为陈述语气，故前一个问号应改为逗号，后一个问号应改为句号，排除；

B项，因引用部分是句子的成分，故应去掉后引号里的句号，排除；

C项正确，当选；

D项，因两个引号里的话都是一个人说的，属于独立引用，故句末的句号应放在引号里面，排除。

故正确答案为C。

76、观察数列，共9项，项数较多且无明显增减规律，优先考虑多重数列。先考虑交叉找规律，故奇数项为一组，偶数项为一组。奇数项组：10，6，（ ），-2，-6，相邻两项做差为4，是公差为4的等差数列，故（ ）里的数字应该为 $6 - 4 = 2$ ；偶数项组：8，4，2，1，是公比为2的等比数列。

故正确答案为A。

77、数列各项均为正整数，且各项递增。观察数列可发现： $1 + 1 = 2$ ， $1 + 2 = 3$ ， $2 + 3 = 5$ ， $3 + 5 = 8$ ， $5 + 8 = 13$ ， $8 + 13 = 21$ ，即第三项 = 第一项 + 第二项，故所求项应为 $13 + 21 = 34$ 。

故正确答案为A。

78、观察数列，相邻两项数据中，后一项均比前一项大6，所以原数列是公差为6的等差数列，则所求项 $= 25 + 6 = 31$ 。

故正确答案为C。

79、质数是指在大于1的自然数中，只有1和它本身两个正因数的自然数。利用短除法可将12597拆分为：
 $12597 = 3 \times 13 \times 17 \times 19$ ，即12597能够分解为4个质数之积。

故正确答案为C。

80、ABC三支施工队总人数 = $388 + 289 + 339 = 1016$ 人，分为甲乙两队且人数相等，均为508人，将A队388人全部编入甲队后，甲队仍缺 $508 - 388 = 120$ 人，缺员的120人按照3:7的比例从B、C两队抽调，则需从C队抽调的人数 = $120 \times \frac{7}{3+7} = 84$ 人，C队剩余的人数编入乙队，C队剩余人数 = $339 - 84 = 255$ 人。

故正确答案为C。

81、设项数为10的等差数列依次为 a_1, a_2, \dots, a_{10} ，公差为 d 。则
 偶数项之和 - 奇数项之和 = $(a_2 + a_4 + a_6 + a_8 + a_{10}) - (a_1 + a_3 + a_5 + a_7 + a_9)$ ，
 $= (a_2 - a_1) + (a_4 - a_3) + (a_6 - a_5) + (a_8 - a_7) + (a_{10} - a_9)$
 $= 5d = 590 - 545 = 45$ ，解得 $d = 9$ 。

故正确答案为C。

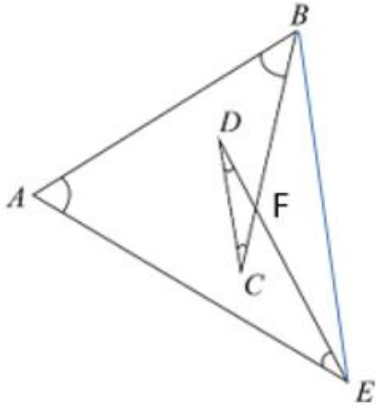
82、总情况数为从10个苹果中任取2个苹果 = $C_{10}^2 = \frac{10 \times 9}{2 \times 1} = 45$ 。恰好取到1个红苹果和1个青苹果的情况数为 $C_4^1 \times C_6^1 = 4 \times 6 = 24$ 。因此，
 概率 = $\frac{\text{满足条件的情况数}}{\text{总情况数}} = \frac{24}{45} = \frac{8}{15}$ 。

故正确答案为A。

83、设总的航程是 S 公里。根据 $\text{时间} = \frac{\text{路程}}{\text{速度}}$ ，直升机以260公里的时速飞往目的地需用 $\frac{S}{260}$ 小时，以360公里的时速飞往目的地需用 $\frac{S}{360}$ 小时。因提速后提前1小时到达，可列方程： $\frac{S}{260} = \frac{S}{360} + 1$ ，解得 $S = 936$ 。

故正确答案为B。

84、令线段BC与线段DE的交点为F，连接BE两点。已知三角形的内角和为 180° ，即在 $\triangle CDF$ 中，
 $\angle C + \angle D + \angle CFD = 180^\circ$ ①；在 $\triangle BEF$ 中， $\angle FBE + \angle BEF + \angle BFE = 180^\circ$ ②。根据“两直线相交，对顶角相等”，可得 $\angle CFD = \angle BFE$ ③。①②③式联立可得： $\angle C + \angle D = \angle FBE + \angle BEF$ 。题干所求
 $= \angle A + \angle ABC + \angle FBE + \angle BEF + \angle AED = \angle A + \angle ABE + \angle AEB = 180^\circ$ 。



故正确答案为 B。

85、本题属于定义新运算问题，计算时，先算括号内，再算括号外。根据定义的运算规则，将所求 $(2\Delta 3)\Delta(2\nabla 3)$ ，代入 $x\Delta y = 3x - 2y$ ， $x\nabla y = 3x + 2y$ ，可得： $2\Delta 3 = 3 \times 2 - 2 \times 3 = 0$ ， $2\nabla 3 = 3 \times 2 + 2 \times 3 = 12$ ，故所求为： $0\Delta 12 = 3 \times 0 - 2 \times 12 = -24$ 。

故正确答案为 A。

86、根据“3.5 亿年前的地球上每天仅有约 21.9 小时，1 年是 400 天，而不是现在的 365 天”可知，题干涉及的是地球一天的时长，地球一天的时长与其自转速度有关，与公转速度无关，排除 C、D 两项；根据 **路程 = 时间 × 速度**，路程不变，而地球每天的时长由 3.5 亿年前的 21.9 小时变为现在的将近 24 小时，说明地球一天自转时间变长，则自转速度变慢，排除 A 项。

故正确答案为 B。

87、第一步：判断题干词语间逻辑关系。

三顾茅庐指刘备三次前往诸葛亮所住的茅屋邀请他，二者为历史事件与人物的对应关系。

第二步：判断选项词语间逻辑关系。

A 项：投笔从戎指班超曾经掷笔长叹说，大丈夫应当在边疆为国立功，二者为历史事件与人物的对应关系，与题干逻辑关系一致，当选；

B 项：望梅止渴指曹操带兵长途行军，称前方有大片梅林，为士兵缓解口渴，该事件与曹植无关，与题干逻辑关系不一致，排除；

C 项：一字千金指吕不韦叫门客著《吕氏春秋》，书写成后出布告，称有能增减一字的，就赏给千金，该事件与刘邦无关，与题干逻辑关系不一致，排除；

D 项：四面楚歌指汉军包围项羽部队，唱楚歌瓦解军心，该事件与韩信无关，与题干逻辑关系不一致，排除。

故正确答案为 A。

88、第一步：先确定逻辑关系最为明显的事件顺序。

观察题干，五个事件主要围绕“战疫”展开。逻辑关系的先后顺序比较明显的是事件②、③和④，应是先发生疫情，然后城市封闭，再交通恢复，因此事件②排在事件③前面，事件③排在事件④前面，排除 C、D 两项。

第二步：逐一对照选项并判断正确答案。

根据第一步得到的结果，只有 A、B 两项符合。通过分析事件③、事件⑤可知，应该先城市封闭，然后赶赴灾区，因此事件③排在事件⑤前面，排除 A 项。

故正确答案为 B。

89、逐一代入选项。

A 项：储户把钱存到存折里，储户是使用存折的主体，牛羊被圈在围墙里，围墙不是牛羊的主体，前后逻辑关系不一致，排除；

B 项：存折是存款的载体，二者为载体的对应关系，围墙和绿地无明显逻辑关系，前后逻辑关系不一致，排除；

C 项：存折和银行卡均可以用来存取金钱，二者为并列关系，栅栏和围墙均可以用来围合区域，二者为并列关系，前后逻辑关系一致，当选；

D 项：存折为银行所提供，但庭院不是围墙所提供的，前后逻辑关系不一致，排除。

故正确答案为 C。

90、第一步：找出定义关键词。

“由于经济中的一些难以克服的原因引起的失业”、“任何经济形态都难以避免的失业，也是正常的失业”。

第二步：逐一分析选项。

A 项：王某由于酒后驾车造成人员伤亡而被开除失业，是个人主观原因造成的，不符合“由于经济中的一些难以克服的原因引起的失业”、“任何经济形态都难以避免的失业，也是正常的失业”，不符合定义，排除；

B 项：由于地震，厂房和设备受损，厂长不得已遣散了工人，是由于不可抗力导致的失业，符合“由于经济中的一些难以克服的原因引起的失业”、“任何经济形态都难以避免的失业，也是正常的失业”，符合定义，当选；

C 项：由于高速公路收费方式改为 ETC 通道收费，一些人工收费站的工作人员下了岗，并非完全是难以克服的原因，不符合“由于经济中的一些难以克服的原因引起的失业”、“任何经济形态都难以避免的失业，也是正常的失业”，不符合定义，排除；

D 项：赵某失手将欠债人打残而被开除，是个人主观原因造成的，不符合“由于经济中的一些难以克服的原因引起的失业”、“任何经济形态都难以避免的失业，也是正常的失业”，不符合定义，排除。

故正确答案为 B。

91、第一步：找出题干矛盾命题。

甲说“所有同学都报名了”，丁说“有人没有报名”，甲和丁是矛盾命题，两人必有一真一假。已知只有一个人说假话，说明假话一定在甲、丁中，故乙、丙说的是真话。

第二步：看其余。

已知乙、丙说的话均为真话，可知班长报名了，且副班长没有报名，说明有人没有报名。则可以知道丁说的是真话，甲说的是假话。

故正确答案为A。

92、第一步：找出定义关键词。

“个体对自己的心智状态的认识”、“自己当下的经验、思想、信念或愿望的知识”。

第二步：逐一分析选项。

A项：小李了解自己专业的就业情况后选择考研，属于对自己前途的认识，符合“自己当下的经验、思想、信念或愿望的知识”这一关键词，符合定义，排除；

B项：小杨认识到如果不锻炼，就会影响身体健康，属于自己对自己生活经验的知识，符合“自己当下的经验、思想、信念或愿望的知识”这一关键词，符合定义，排除；

C项：小王从网络上得知某地的传染病的消息，是对某地的传染病情况的认识，这属于外在的情况，不是小王对自己的认识，不符合“自己当下的经验、思想、信念或愿望的知识”这一关键词，不符合定义，当选；

D项：小明相信通过自己的努力，学业会取得进步，是自己对自己发展方式或路径的认识，符合“自己当下的经验、思想、信念或愿望的知识”这一关键词，符合定义，排除。

本题为选非题，故正确答案为C。

93、观察图形，图1和图3中都有面1、面2、面4、面5、面6，且面2、面4、面5、面6都是面1的相邻面，六面体中的任何一个面都有4个相邻面和1个相对面，所以剩余的面3与面1一定是相对关系，A项当选。

故正确答案为A。

94、元素组成不同，优先考虑属性规律。观察题干发现：“S”、“圆”、平行四边形变形图，这均是中心对称图形特征图，考虑中心对称。观察其余图形，均为中心对称图形。因此“？”处应为中心对称图形，只有D项符合题意。

故正确答案为D。

95、第一步：先确定逻辑关系最为明显的事件顺序。

观察题干，五个事件主要围绕“去看病”展开。通读事件很容易发现：事件⑤就医，是整个事件的起点，只有先去就医才会发生后边的化验、诊断、治疗、病愈的过程。

第二步：逐一对照选项并判断正确答案。

根据第一步得到的判断对比选项只有 D 项符合，对 D 项进行验证：⑤就医是整个事件的起点，整个诊治活动的第一步是①化验，然后根据①化验的结果进行③诊断，根据③诊断下一步进行②治疗，经过治疗最终④病愈，符合逻辑。

故正确答案为 D。

96、根据题干“2013~2018 年 A、B 两品牌产量之和占三个品牌总数比重最大的一年”，结合统计图中给出 2013~2018 年三个品牌各自的现期值，可判定本题为现期比重问题。根据 $\text{比重} = \frac{\text{部分量}}{\text{总体量}}$ ，A、B 两品牌产量之和占三个品牌总数比重为： $\frac{A、B\text{部分量}}{A、B\text{部分量}+C\text{部分量}}$ ，比重最大即 $\frac{A、B\text{部分量}}{C\text{部分量}}$ 最大。定位统计图，2013、2015、2017、2018 年比重比较，可分别转化为： $\frac{477+566}{822} = \frac{1043}{822}$ 、 $\frac{546+748}{871} = \frac{1294}{871}$ 、 $\frac{608+812}{837} = \frac{1420}{837}$ 、 $\frac{640+874}{830} = \frac{1514}{830}$ 。2018 年与 2015 年、2017 年比较：2018 年的分母小、分子大，则 2018 年比重大，排除 2015 年、2017 年；2018 年与 2013 年比较：分母相差不大，分子 1514 远大于 1043，分子大的分数值大，排除 2013 年，故 2018 年最大。

故正确答案为 D。

97、根据题干“B 品牌产量年增长率最小的一年”，结合统计图中给出各年份 B 品牌的产量，可判定本题为增长率比较问题。根据 $\text{增长率} = \frac{\text{现期} - \text{基期}}{\text{基期}} = \frac{\text{现期}}{\text{基期}} - 1$ ，增长率最小，即 $\frac{\text{现期}}{\text{基期}}$ 最小。定位统计图，2015~2018 年 B 品牌 $\frac{\text{现期}}{\text{基期}}$ 分别为： $\frac{748}{656}$ 、 $\frac{810}{748}$ 、 $\frac{812}{810}$ 、 $\frac{874}{812}$ ，四个分数比较，只有 $\frac{812}{810} \approx 1$ ，其它三个分数均明显比 1 大，故增长率最小的是 2017 年。

故正确答案为 C。

98、根据题干“平均年产量的比值约是”，结合统计图可判定本题为比值计算问题。定位统计图 2013-2018 年 A、B 品牌平均年产量分别约为： $\frac{477+504+546+566+608+640}{6} \approx \frac{480+500+550+570+610+640}{6} = \frac{3350}{6}$ 、 $\frac{566+656+748+810+812+874}{6} \approx \frac{570+660+750+810+810+870}{6} = \frac{4470}{6}$ ，则所求比值为 $\frac{3350}{6} \div \frac{4470}{6} = \frac{335}{447} \approx 0.7^+$ ，只有 C 项符合。

故正确答案为 C。

99、根据题干“2013~2018 年...年增长率最大的一年是”，可判定本题为一般增长率比较问题。定位统计图可知，2013-2017 年 C 品牌产量分别为：822 万台、878 万台、871 万台、840 万台、837 万台。观察发现，只有 2014 年 C 品牌产量上升，其余年份产量均下降，故 2014 年 C 品牌产量年增长率最大。

故正确答案为 A。

100、根据题干“各地区中人口密度最小的是”，结合 $\text{人口密度} = \frac{\text{人口数量}}{\text{面积}}$ ，可判定本题为现期平均数比较问题。定位统计表：西部地区人口数量为 0.82 亿，面积为 307 万平方公里；中部地区人口数量为 3.08 亿，面积为 87.1 万平方公里；长江三角洲地区人口数量为 1.68 亿，面积为 33 万平方公里；珠江三角洲地区人口数量为 0.98 亿，面积为 29.9 万平方公里。根据 $\text{人口密度} = \frac{\text{人口数量}}{\text{面积}}$ ，可得西部地区、中部地区、长江三角洲地区、珠江三角洲地区的人口密度分别为： $\frac{0.82}{307}$ ， $\frac{3.08}{87.1}$ ， $\frac{1.68}{33}$ ， $\frac{0.98}{29.9}$ ，根据分母越大，分子越小，则分数越小，可得西部地区人口密度最小。

故正确答案为 A。

101、根据题干“表格中各地区人均···最高的是”，可判定本题为现期平均数比较问题。
 $\text{人均地区国民生产总值} = \frac{\text{地区国民生产总值}}{\text{人口数量}}$ ，而
 $\text{地区国民生产总值} = \text{各地区总和} \times \text{各地区国民生产总值占各地区总和的比重}$ ，其中，各地区总和是固定值，故地区国民生产总值可用所占比重进行比较。定位统计表：长江三角洲地区人口数量为 1.68 亿，地区国民生产总值占各地区总和比重为 20%；珠江三角洲地区人口数量为 0.98 亿，地区国民生产总值占各地区总和比重为 13%；环渤海地区人口数量为 2.40 亿，地区国民生产总值占各地区总和比重为 22%；东北地区人口数量为 1.13 亿，地区国民生产总值占各地区总和比重为 15%。因此，长江三角洲地区人均国民生产总值 $= \frac{20}{1.68} \approx \frac{20}{1.7} \approx 11.7$ ，珠江三角洲地区人均国民生产总值 $= \frac{13}{0.98} \approx 13$ ，环渤海地区人均国民生产总值 $= \frac{22}{2.40} \approx 9.2$ ，东北地区人均国民生产总值 $= \frac{15}{1.13} \approx 13.6$ ，故东北地区人均地区国民生产总值最高。

故正确答案为 D。

102、根据题干“···是···的多少倍”，可判定本题为现期倍数问题。

定位统计表：长江三角洲地区国民生产总值占各地区总和比重为 20%，西部地区国民生产总值占各地区总和比重为 5%。其中，各地区总和为固定值，故可用所占比重代替地区国民生产总值进行比较，则长江三角洲地区国民生产总值是西部地区的 $\frac{20\%}{5\%} = 4$ 倍。

故正确答案为 A。

103、A 项：定位表格中面积和人口数量两列可知，长三角地区面积为 33 万平方公里，人口数量是 1.68 亿；西部地区面积为 307 万平方公里，人口数量是 0.82 亿，不符合面积越大的地区对应的人口越多，错误；

B 项： $\text{地区人均国民生产总值} = \frac{\text{地区国民生产总值}}{\text{地区人口数量}} = \frac{(\text{国民生产总值} \times \text{地区占总和的比重})}{\text{地区人口数量}}$ ，由于国民生产总值是固定的，所以比较地区人均国民生产总值，只需要比较 $\frac{\text{地区占总和的比重}}{\text{地区人口数量}}$ 即可。西南地区比值 $= \frac{11}{2.43} \approx 4.53$ ，

长三角地区比值 $= \frac{20}{1.68} > \frac{20}{2} = 10$ ，环渤海地区比值 $= \frac{22}{2.40} > \frac{22}{3} > 7$ ，中部地区比值 $= \frac{14}{3.08} \approx 4.55$ ，珠江三角洲地区比值 $= \frac{13}{0.98} > 13$ ，东北地区比值 $= \frac{15}{1.13} > 10$ ，西部地区 $= \frac{5}{0.82} > 5$ ，比较可知，西南地区是表格中七个地区人均国民生产总值最低的地区，正确；

C项：人口密度 $= \frac{\text{地区人口数量}}{\text{地区面积}}$ ，定位表格数据，环渤海地区人口数量 2.40 亿，面积 112 万平方公里，人口密度 $= \frac{2.40}{112} \approx 0.02$ 亿/万平方公里；珠江三角洲地区人口数量 0.98 亿，面积 29.9 万平方公里，人口密度 $= \frac{0.98}{29.9} \approx 0.03$ 亿/万平方公里。人口少但是人口密度大，错误；

D项：地区国民生产总值能反映出该地区的经济发展水平，因此可以比较不同地区人口数量和地区国民生产总值的关系。定位表格数据可知，环渤海地区人口数量为 2.40 亿，地区生产总值占比 22%，中部地区人口数量为 3.08 亿，地区生产总值占比 14%，人口多但经济发展水平低，错误。

故正确答案为 B。

104、根据题干“2018 年 1 月份，该市工农业销售总额为……”，结合材料时间为 2019 年，且给出了 2019 年 1-2 月份和 2019 年 2 月份的工农业销售总额，可判定本题为基期和差问题。定位文字材料第一段和第二段，“2019 前两个月实现工农业销售总额为 53.67 亿元，比上年同期增长 28.7%”、“2019 年 2 月份实现工农业销售总额为 29.69 亿元，比上年同期增长 58.2%”。根据

基期量 $= \frac{\text{现期量}}{(1 + \text{增长率})}$ ，2018 年 1 月份该市工农业销售总额 =

$$\frac{2018 \text{年} 1 - 2 \text{月份的工农业销售总额} - 2018 \text{年} 2 \text{月份的工农业销售总额}}{(1 + 28.7\%) - (1 + 58.2\%)}$$

$$\approx \frac{54}{1.3} - \frac{30}{1.6} \approx 41.5 - 18.7 = 22.8$$

亿元，与 C 项最为接近。

故正确答案为 C。

105、根据题干“2019 年前两个月，该市一般农业销售额占农业销售总额的比重与上年同期相比”，可判断本题为两期比重问题。定位文字材料第一段和第三段，“2019 年前两个月，农业销售总额 26.38 亿元，比上年同期增长 27.4%”“2019 年前两个月，一般农业实现销售额 8.97 亿元，比上年同期增长 31%”。根据两期比重升降判断原理，部分的增长率大于整体的增长率，则比重上升，反之则下降。很明显 $31\% > 27.4\%$ ，则一般农业销售额占农业销售总额的比重与上年同期相比上升了，排除 AD 选项，又根据两期比重差值 $< |\text{增长率之差}| = |31\% - 27.4\%| = 3.6\%$ ，排除 C 选项。

故正确答案为 B。

106、根据题干“该市 2018 年前两个月……约为……亿元”，材料给出的时间为 2019 年，可判断本题为基期计算问题。定位文字材料第四段，“2019 年前两个月该市在上海实现的农业销售额为 2.66 亿元，比上

年同期增长32%”。根据公式： $\text{基期量} = \frac{\text{现期量}}{1 + \text{增长率}}$ ，则该市2018年前两个月在上海实现的农业销售额

$$= \frac{2.66}{1 + 32\%} \approx \frac{2.66}{1.33} = 2$$

亿元，C项最为接近。

故正确答案为C。

107、根据题干“与2018年同期相比，2019年……六个城市中……增长最多的是”，可判定本题为增长量比较问题。定位文字资料第四段，根据公式： $\text{增长量} = \frac{\text{现期量}}{1 + \text{增长率}} \times \text{增长率}$ ，则深圳增长量

$$= \frac{7.3}{1 + 12.2\%} \times 12.2\% \approx \frac{7.3}{1 + \frac{1}{8}} \times \frac{1}{8} = \frac{7.3}{9} \approx 0.81$$

亿元；广州增长量 = $\frac{2.99}{1 + 16.2\%} \times 16.2\% \approx \frac{2.99}{1 + \frac{1}{6}} \times \frac{1}{6} = \frac{2.99}{7} \approx 0.43$ 亿元；北京增长量 = $\frac{2.46}{1 + 1.2\%} \approx 1.34$ 亿元；天津增长量 = $\frac{1.62}{1 + 1.8\%} \approx 1.04$ 亿元，可知北京农业销售额增长最多。

故正确答案为A。

108、根据题干“2018年粮食种植面积比2017年减少约为……”可判定本题为一般增长率问题。定位文字资料第一段可知，“2018年全年粮食种植面积11704万公顷，比上年减少95万公顷。”根据增长率

$$= \frac{\text{增长量}}{\text{基期量}} \times 100\%$$

，则2018年粮食种植面积比2017年减少 $\frac{95}{11704 + 95} \approx 0.8\%$ 。

故正确答案为D。

109、根据题干“2015~2018年……比例最大的年份是”，可判定本题为一般增长率问题。定位统计图可知：2016年与2018年粮食产量同比下降，排除；2015年粮食增产 $66060 - 63965 = 2095$ 万吨，远大于2017年的增产量，可知2015年粮食产量增产比例最大。

故正确答案为A。

110、A项，定位统计图可知，2014年粮食产量处于最低点，正确；

B项，定位文字资料最后一段可知，“秋粮产量49052万吨，增产0.1%”，与选项不相符，错误；

C项，定位统计图可知，2014~2018年粮食产量，在2015年上升，2016年下降，2017年上升，2018年下降，一直处于增减交替状态，正确；

D项，定位文字资料第一段可知，“棉花种植面积335万公顷，增加16万公顷；糖料作物种植面积163万公顷，增加9万公顷”，与选项相符，正确。

本题为选非题，故正确答案为B。